


۱. کشیدن دانه های برف را ادامه بده.



۲. کشیدن قطرات باران را ادامه بده.



تاریخ: مهر ماه ۱۴۰۴

موضوع: آمادگی برای نوشتن




پیش‌دستی و همکار غیر جوانی پسرانه  
نشاط علم پویا  
Neshat Elm Poya Elementary School

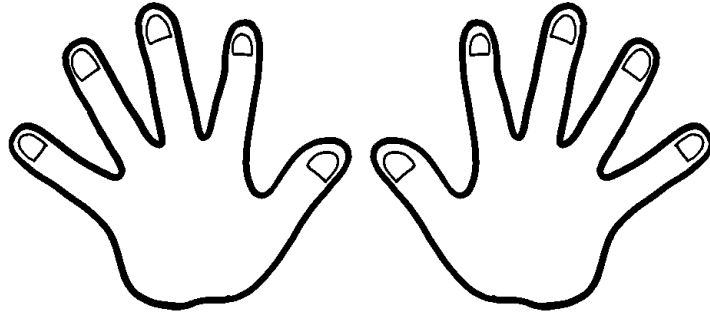
باز خورد:

هدف: تقویت عضلات دست

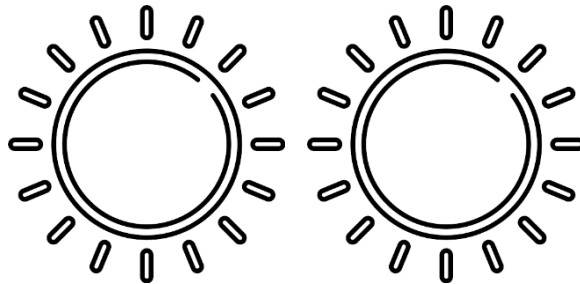
۳. نقطه چین ها را پر کن.



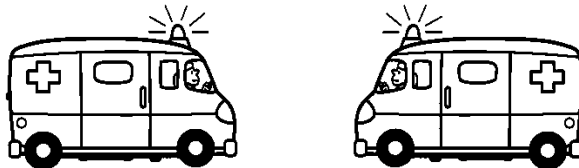
۱. دست سمت راست را آبی و دست سمت چپ را قرمز کن.



۲. خورشید سمت راست را زرد و خورشید سمت چپ را نارنجی کن.



۳. کدام ماشین به سمت چپ حرکت می کند؟ آن را صورتی کن.



۴. کدام دست آقای پلیس بالا آمده است؟




۱. یک خط باز و یک خط بسته بکش.

۲. یک خط شکسته و یک خط خمیده بکش.

۳. یک خط صاف بکش.

۴. یک خط کج بکش.

۵. هر طور که دوست داری نقاط زیر را به هم وصل کن. (از خط کش استفاده نکن.)



۱. خط کش را بردار و نقاطی که رو به روی هم هستند را به هم وصل کن.



۲. شکل های شابلونت را رسم کن.

۳. از خط کش استفاده کن و خط های کمرنگ را پررنگ کن.


---

---


---

---


۱. نقطه چین ها را پر کن و سپس شکل های کمرنگ را پر رنگ کن.



۲. با وصل کردن نقطه ها به هم سه گوش بساز.



۳. با وصل کردن نقطه ها به هم چهار گوش بساز.

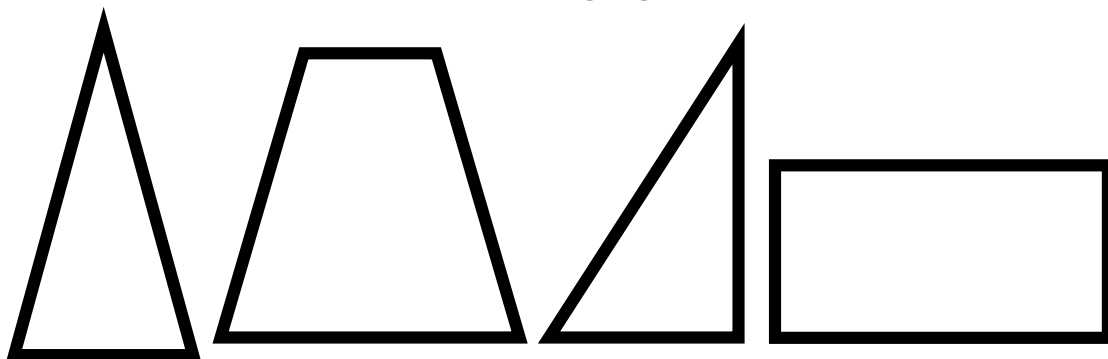





۱. گوشه های شکل های زیر را مشخص کن.



۲. لبه های شکل های زیر را مشخص کن.



۳. بین اشکال زیر هرچه گردی میبینی رنگ بزن.



### عدد صفر \_

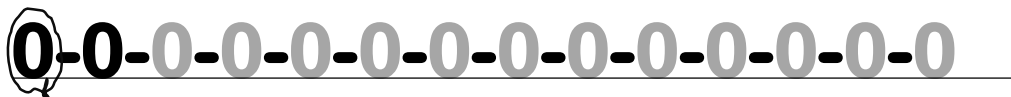
۱. مانند سرمشق کامل کن.




۲. همه ی ستاره های زیر را رنگ بزن. حالا چند شکل رنگ نزده باقی مانده است؟



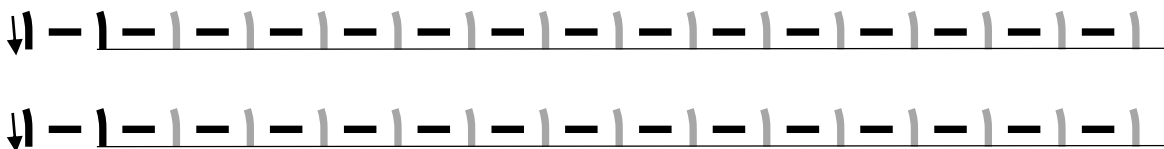
۳. مانند سرمشق کامل کن.



۴. اگر شاخ های میمون زیر را می بینی رنگ بزن !!




۱. مانند سرمشق کامل کن.



۲. شابلونت را بردار و از گردی، سه گوش و چهارگوش فقط یکی رسم کن.


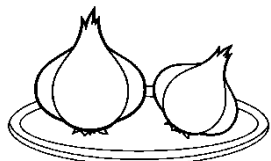
۳. اولین سیب از سمت راست را رنگ بزن.



۴. مانند سرمشق کامل کن.



۵. کدام یک از شکل‌ها یکی هستند؟ آن را با خط کش به عدد ۱ وصل کن.






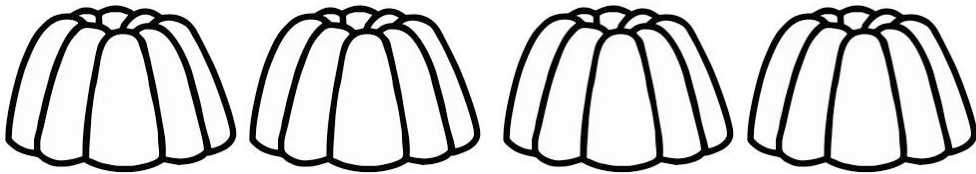
۱. مانند سرمشق کامل کن.



۲. در سه گوش زیر گوشه‌ها و لبه‌ها را مشخص کن و بگو که در سه گوش چند گوشه و چند لبه داریم؟




۳. سومین ژله از سمت راست را رنگ بزن.



۴. مانند سرمشق کامل کن.



۵. کدام یک از شکل‌ها سه تا هستند؟ آن را با خط کش به عدد ۳ وصل کن



۳





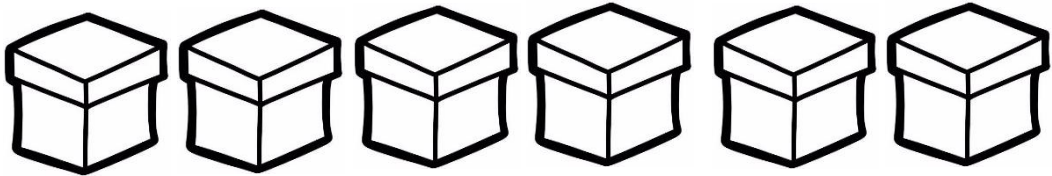
۱. مانند سرمشق کامل کن.



۲. با وصل کردن ۴ نقطه ی زیر به هم یک چهار گوش رسم کن.




۳. چهارمین جعبه از سمت چپ را رنگ بزن.



۴. مانند سرمشق کامل کن.



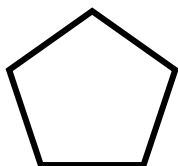
۵. چهار تا از پاپیون های این بادبادک را قرمز و بقیه ی پاپیون ها را آبی کن.




۱. مانند سرمشق کامل کن.



۲. گوشه های شکل زیر را مشخص کن ، آیا می توانی حدس بزنی که نامش چیست؟




۳. پنجمین خورشید از سمت راست را رنگ بزنی.



۴. مانند سرمشق کامل کن.



۵. با کشیدن فقط ۵ خط روی بدن این خر آن را به یک گور خر تبدیل کن.



۱. اعداد زیر را به ترتیب از سمت چپ بخوان و به سؤالات زیر جواب بده.

۵-۴-۳-۲-۱-۰



- بعد از عدد ۲ چه عددی است؟

- قبل از عدد ۴ چه عددی است؟

- بعد از عدد ۱ چه عددی است؟


- قبل از عدد ۵ چه عددی است؟

۲. ما سه وعده ی اصلی غذایی داریم. صبحانه ، ناهار و شام.

- ما قبل از ناهار چه خورده ایم؟


- ما بعد از ناهار چه خواهیم خورد؟

۳. به کادر زیر نگاه کن. سپس داخل آن یک ابر بکش. حالا به سؤالات جواب بده.



- قبل از اینکه نقاشی بکشی چه چیزی آن جا بود؟


- بعد از نقاشی چه می بینی؟



۱. بالای سر فیل کوچولو ابر بکش.



۲. کیسه ی پایین نهال را زرد کن.



۳. پایین قطره ی آب یک لیوان بکش.

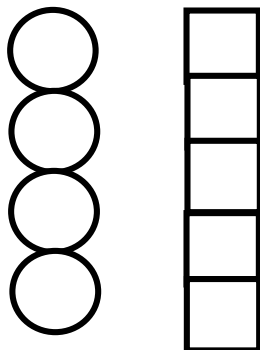


۴. تابلو های بالای تخت را رنگ کن.




۵. چراغ پایین ساعت را رنگ کن.

۶. بالش روی تخت را رنگ کن.

۷. بالا ترین گردی را صورتی کن.



۸. پایین ترین چهارگوش را نارنجی کن.



۱. زیر صندلی یک گردی بکش.

۲. روی چادر مسافرتی یک پرچم بکش.

۳. چمن های زیر قارچ را سبز کن.

۴. روی ناخن ها را رنگ بزن.


۵. ظرف زیر سیب ها را بنفش کن.

۶. روی بستنی ها را تزئین کن.

۷. هیزم های زیر آتش را رنگ بزن.

۸. روی کتاب یک مداد بکش.


۱. دیوار پشت تلویزیون را خال خال قرمز کن.



۲. توپ و عروسک جلوی کودک را سبز کن.




۳. کوه پشت دریا را قهوه ای کن.





## دور و نزدیک

۱. در تصویر زیر بین ابر و گل کدام به زرافه دور و کدام نزدیک است؟ دور را آبی و نزدیک را نارنجی کن.



۲. بین هواپیما، ابر و خورشید کدام از ما دورتر است؟

آن را رنگ کن.


۳. در باران زیر، قطره ای که به زمین نزدیک تر است را رنگ کن.

۴. بین خانه و آدم برفی کدام دورتر است؟ رنگ کن.





۱. در قطار زیر واگن وسط را رنگ بزن.



۲. دکمه‌ی وسطی آدم برفی زیر را رنگ بزن.



۳. به اعداد زیر خوب نگاه کن و به سؤالات با دقت پاسخ بده.

۵-۴-۳-۲-۱-۰

- بین عدد ۳ و ۵ چه عددی است؟

- بین عدد ۱ و ۳ چه عددی است؟

- بین عدد ۰ و ۲ چه عددی است؟

- بین عدد ۲ و ۴ چه عددی است؟

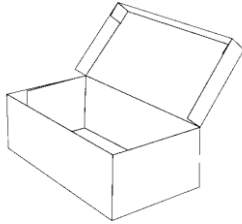
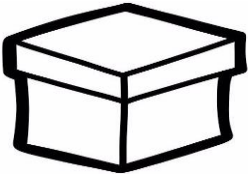
۱. کدام چشم باز است؟ دورش خط بکش.



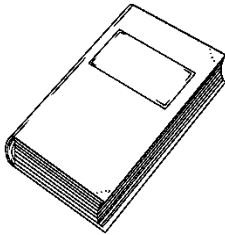
۲. کدام دهان بسته است؟ دورش خط بکش.



۳. در کدام جعبه باز است؟ دورش خط بکش.



۴. کدام کتاب بسته است؟ دورش خط بکش.



۵. کدام قفل باز است؟ دورش خط بکش.



۶. در کدام ماژیک بسته است؟ دورش خط بکش.







۱. کدام شکل پهن است؟ دورش خط بکش.



۲. کدام چوب لباسی باریک تر است؟ دورش خط بکش.




۳. برای یک نفر سبیل پهن و برای دیگری سبیل باریک بکش.



۱. مانند سرمشق کامل کن.





۲. پنج تا از شکل های زیر را داخل یک خط بسته ببر ، چندتا اضافه می ماند؟ با هم چندتا می شوند؟



۳. مانند سرمشق کامل کن.



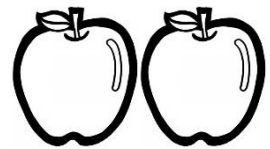

۴. هر دسته از شکل ها را یک جداگانه بزن و با هم شمارش کن.



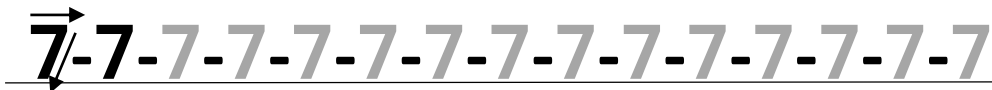
۱. مانند سرمشق کامل کن.







۲. پنج تا از شکل های زیر را داخل یک خط بسته ببر ، چندتا اضافه می ماند؟ با هم چندتا می شوند؟



۳. مانند سرمشق کامل کن.



۴. هر دسته از شکل ها را یک رنگ جداگانه بزن و با هم شمارش کن.



۱. مانند سرمشق کامل کن.



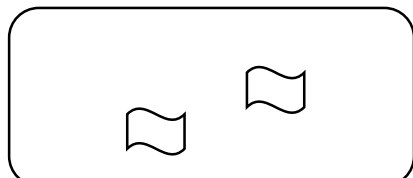
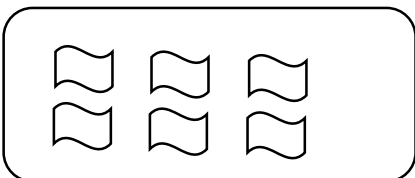
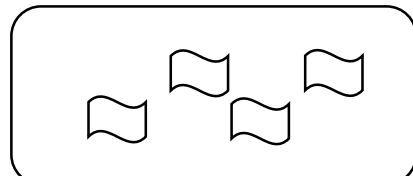
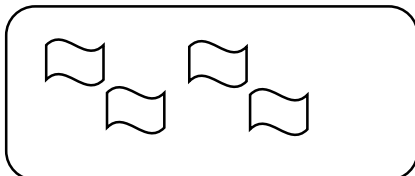
۲. پنج تا از شکل های زیر را داخل یک خط بسته ببر ، چندتا اضافه می ماند؟ با هم چندتا می شوند؟



۳. مانند سرمشق کامل کن.




۴. هر دسته از شکل ها را یک رنگ جداگانه بزن و با هم شمارش کن.



۱. مانند سرمشق کامل کن.



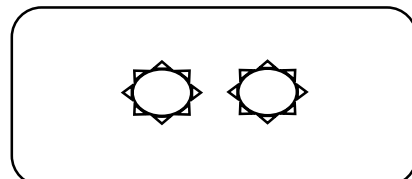
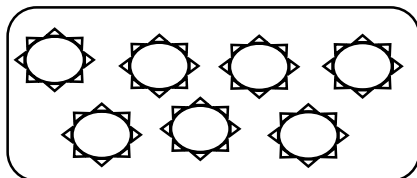
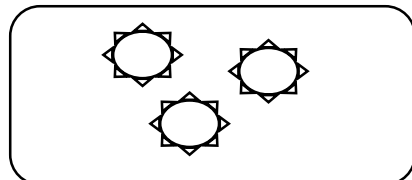
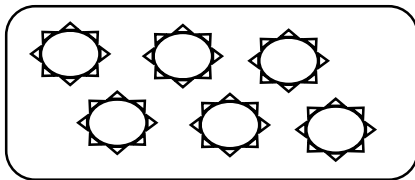
۲. پنج تا از شکل های زیر را داخل یک خط بسته ببر ، چندتا اضافه می ماند؟ با هم چندتا می شوند؟



۳. مانند سرمشق کامل کن.



۴. هر دسته از شکل ها را یک رنگ جداگانه بزن و با هم شمارش کن.



۱. مانند سرمشق کامل کن.

۱۰-۱۰-۱۰-۱۰-۱۰-۱۰-۱۰-۱۰-۱۰-۱۰-۱۰

۱۰-۱۰-۱۰-۱۰-۱۰-۱۰-۱۰-۱۰-۱۰-۱۰-۱۰

۲. پنج تا از شکل های زیر را داخل یک خط بسته ببر ، چندتا اضافه می ماند؟ با هم





چندتا می شوند؟



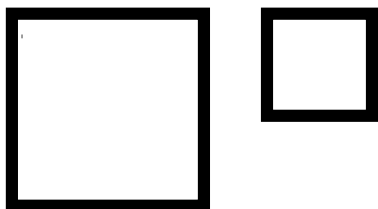
۳. مانند سرمشق کامل کن.

10-10-10-10-10-10-10-10-10-10-

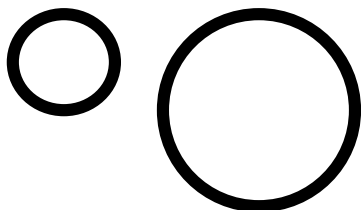
۴. هر دسته از شکل ها را یک رنگ جداگانه بزن و با هم شمارش کن.



۱. کدام چهار گوش بزرگ است؟ علامت بزن.




۲. کدام گردی کوچک تر است؟ علامت بزن.



۳. بزرگ ترین خانه را رنگ بزن.



۴. تخم مرغ های هم اندازه را هم رنگ کن.



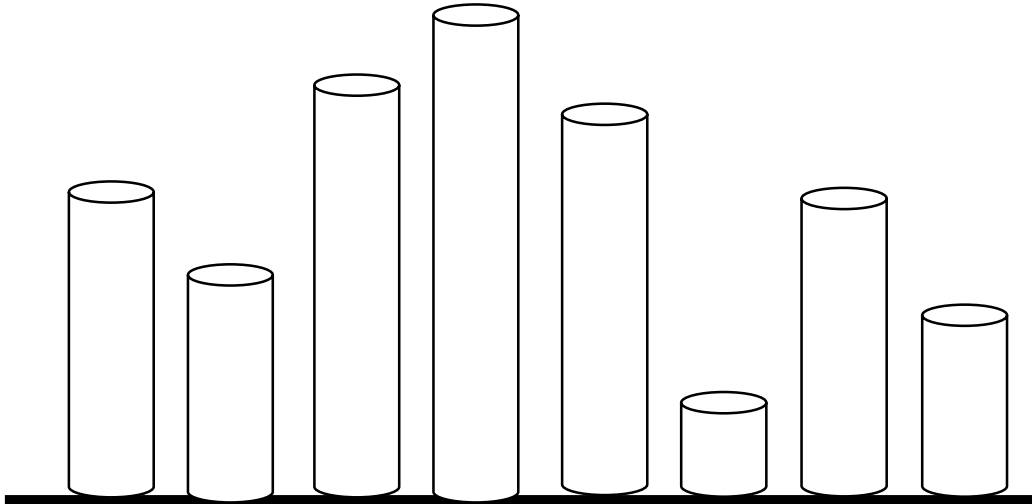
۱. کدام شکل کوتاه تر است؟ علامت بزن.



۲. کدام درخت بلند تر است؟ علامت بزن.



۳. کوتاه ترین شکل را زرد و بلند ترین را سبز کن.




تاریخ: دی ماه ۱۴۰۴

موضوع: اندازه گیری

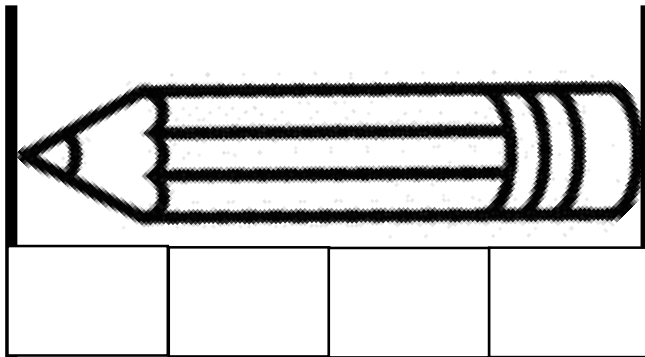
بازخورد:

هدف: اندازه گیری با واحدهای غیر استاندارد


۱. این گل اندازه ی چند گردی است؟



۲. این مداد اندازه ی چند چهارگوش است؟



۳. قد این پسر بچه اندازه ی چند سه گوش است؟





تاریخ: بهمن ماه ۱۴۰۴

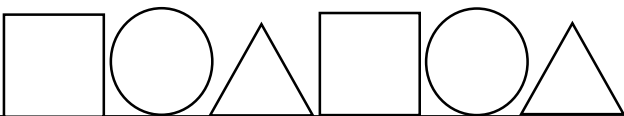
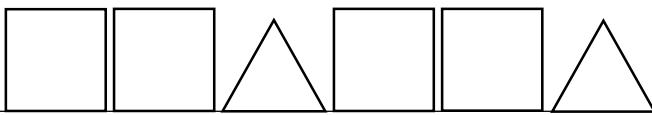
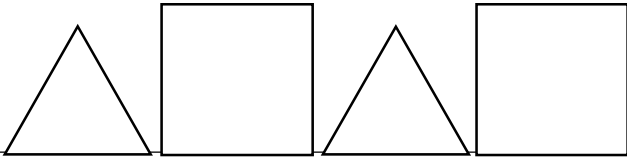
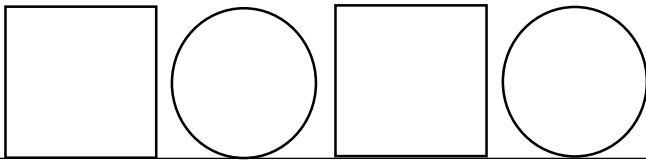
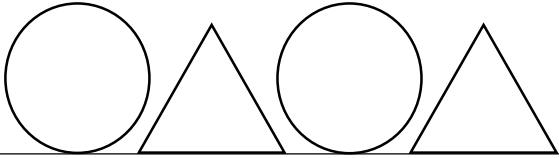
موضوع: الگویابی



باز خورد:


هدف: الگویابی اشکال هندسی

۱. با استفاده از شابلون الگوها را ادامه بده.






۱. توت فرنگی های زیر را به دسته های ۲ تایی تبدیل کن.




۲. گل های زیر را به دسته های ۳ تایی تبدیل کن.



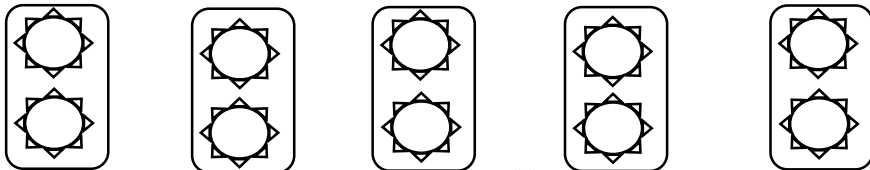
۳. شکل های زیر را به دسته های ۴ تایی تبدیل کن.




۴. شکل های زیر را به دسته های ۵ تایی تبدیل کن.



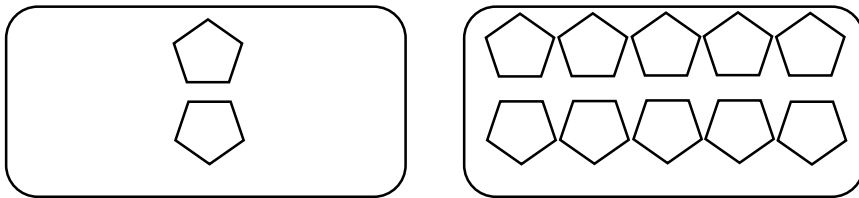
۵. در این تصویر چند دسته ی ۲ تایی می بینی؟




۱. کدام دسته از شکل ها کم تر است ؟ (بدون شمارش)




۲. کدام دسته از شکل ها زیاد تر است؟ (بدون شمارش)



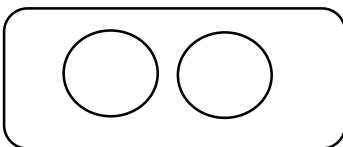
۳. کدام دسته از شکل ها کم تر است ؟ (با شمارش)



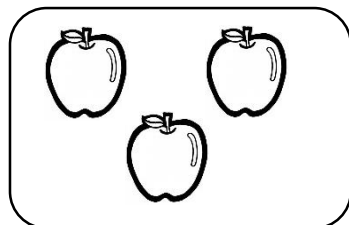
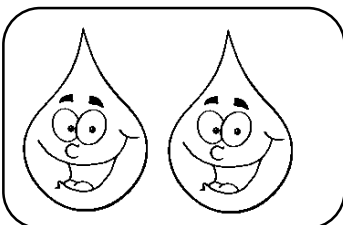



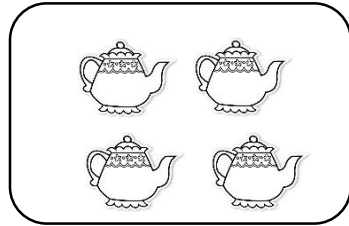


۴. کدام دسته از شکل ها زیاد تر است؟ (با شمارش)







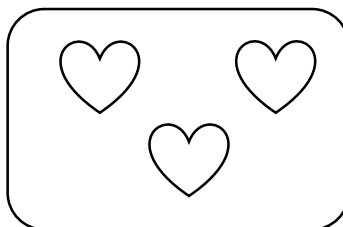

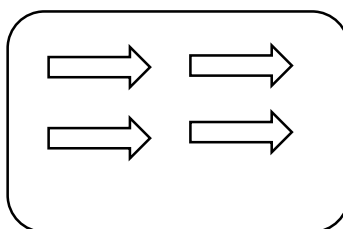
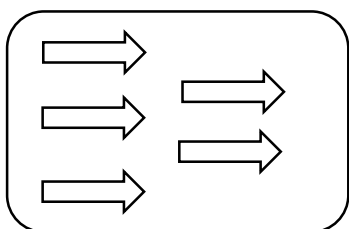
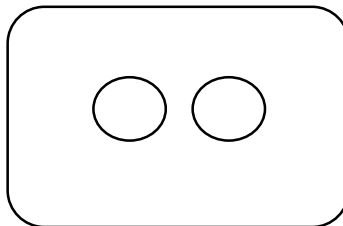
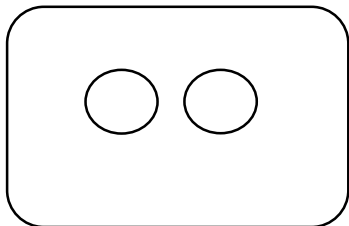
۵. داخل دسته ی خالی را به قدری شکل بکش که از دسته ی دیگر بیش تر شود.




۱. دسته هایی که تعداد یکسان دارند را با خط کش به هم وصل کن.



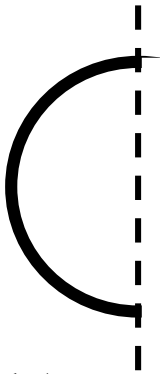
۱. با شمارش بگو آیا دسته‌هایی که رو به روی هم هستند با هم مساوی هستند؟



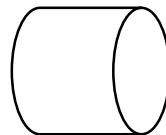
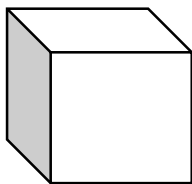
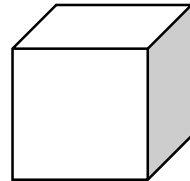
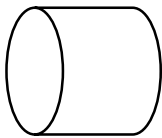
۱. خرس زیر را جوری رنگ بزن که دو طرف آن شبیه هم شود.



۲. سعی کن نیمه ی دیگر شکل زیر را بکشی.




۳. قرینه ی شکل ها را پیدا کن و با یک خط آن ها را به هم وصل کن.



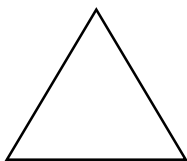
۱. اگر به شکل های زیر یکی اضافه کنی چند تا می شود؟



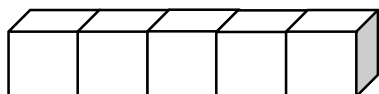
۲. اگر به شکل های زیر ۲ تا اضافه کنی چند تا می شود؟



۳. اگر به شکل زیر ۳ تا اضافه کنی چند تا می شود؟

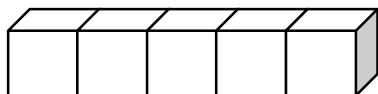


۴. اگر ۲ تا از چینه های زیر را زرد و ۲ تا از آن ها را آبی کنی با هم چند تا می



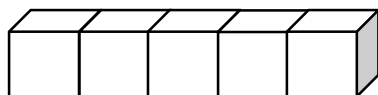
شوند؟

۵. اگر ۳ تا از چینه های زیر را بنفش و یکی از آن ها را نارنجی کنی با هم چند تا



می شوند؟

۶. اگر ۲ تا از چینه های زیر را قرمز و ۳ تا از آن ها را صورتی کنی با هم چند تا



می شوند؟

۱. اگر ۲ تا از شکل های زیر را خط بزنی ، چند تا خط نزده باقی می ماند؟



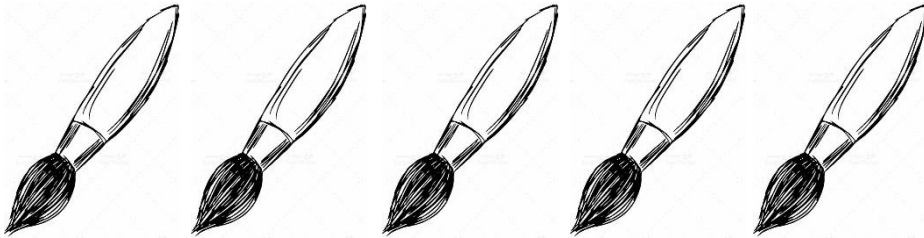
۲. اگر ۳ تا از شکل های زیر را خط بزنی ، چند تا خط نزده باقی می ماند؟



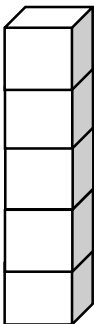
۳. اگر یکی از شکل های زیر را خط بزنی ، چند تا خط نزده باقی می ماند؟



۴. اگر ۵ تا از شکل های زیر را خط بزنی ، چند تا خط نزده باقی می ماند؟



۵. اگر از روی چینه های زیر ۳ تا خط بزنییم چندتا باقی می ماند؟



سودوکوهای رنگی زیر را کامل کن. (رنگ‌هایی که کمرنگ نوشته شده را اولیای محترم رنگ کنند).

سبز	آبی	
آبی		سبز
قرمز	سبز	

	نارنجی	
نارنجی	زرد	بنفش
زرد	بنفش	

قهوه‌ای	آبی	
قرمز		آبی
	قرمز	قهوه‌ای

	نارنجی	
زرد	سبز	نارنجی
	زرد	سبز

صورتی		آبی
	صورتی	زرد
زرد	آبی	

	نارنجی	
نارنجی	بنفش	قرمز
بنفش	قرمز	



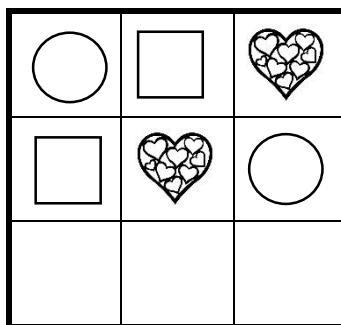
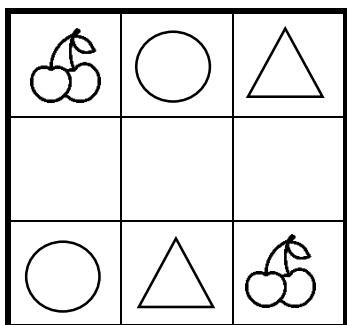
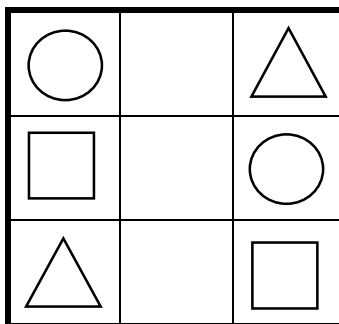
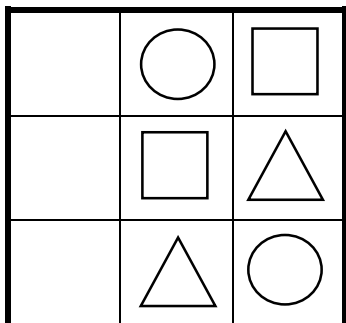
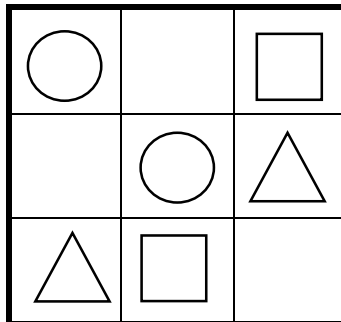
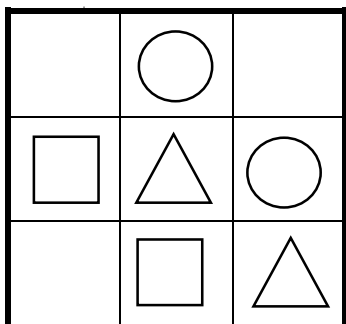
موضوع: حضور و غیاب در ستون و ردیف و بلوک

تاریخ: فروردین ماه ۱۴۰۵

هدف: حل جدول سودوکوی شکل‌ها و رنگ‌ها

بازخورد:

### سودوکوهای رنگی زیر را کامل کن.



	سبز	قرمز	زرد
قرمز	زرد	آبی	
زرد		سبز	قرمز
سبز	قرمز		آبی

زرد	قرمز	سبز	
سبز	آبی		قرمز
قرمز		آبی	زرد
	زرد	قرمز	سبز

○	△	☆	□
☆			△
□	○	△	☆
	☆	□	

	☆	△	○
△	○		☆
☆	△		□
	□	☆	△

△	♥		○
□		♥	△
○	□		♥
♥	△	○	

○	♥	△	□
		♥	○
△	□		♥
♥	○		△

تاریخ: اردیبهشت ماه ۱۴۰۵

موضوع: نقشه خوانی

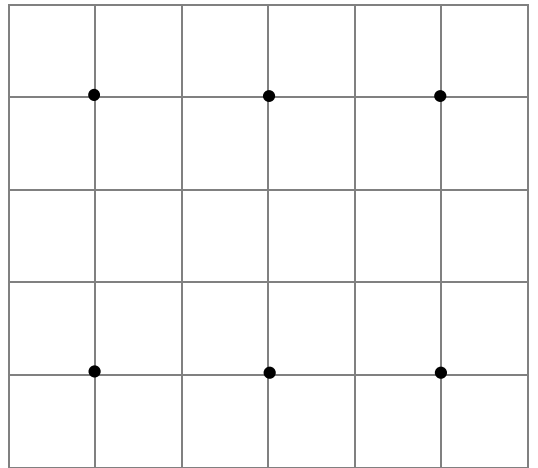
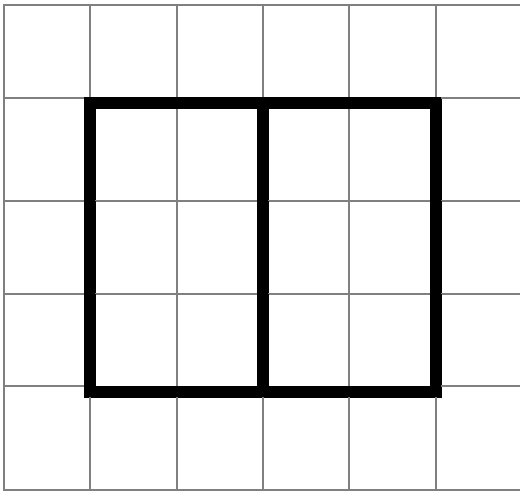
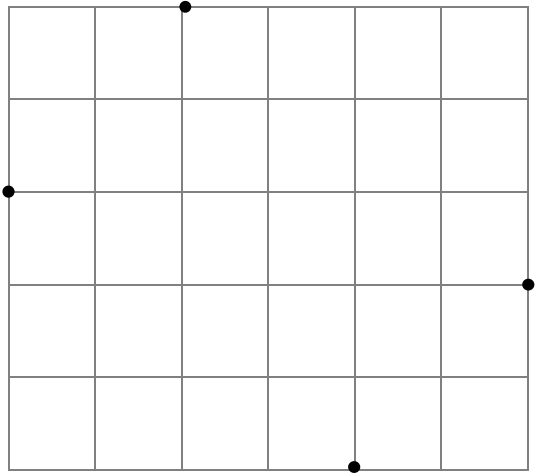
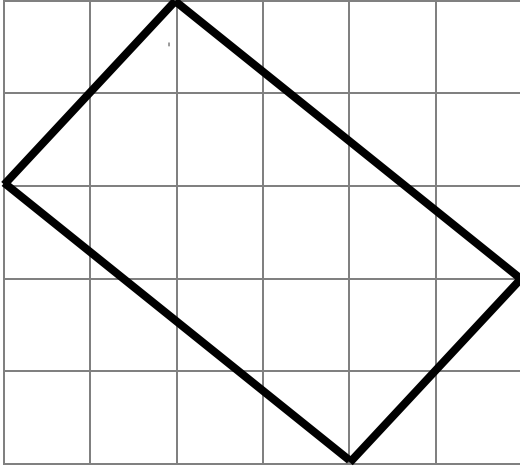


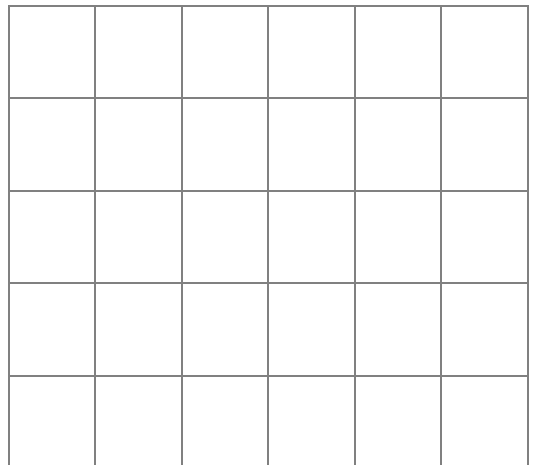
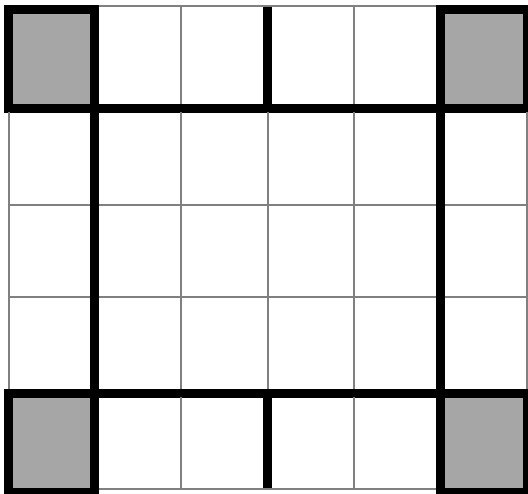

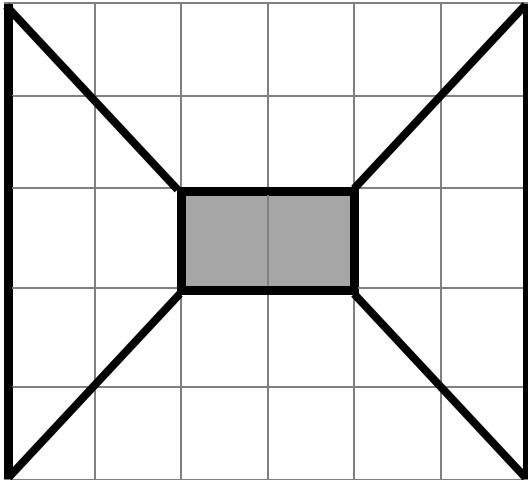

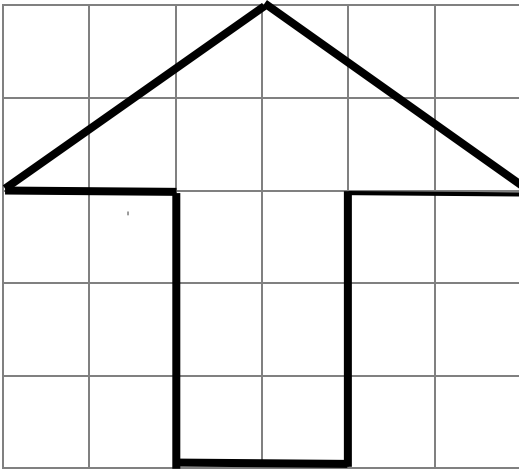
پیش دبستانی و دبستان غیر دولتی پویا  
نشاط علم پویا  
Neshat Elm Pouya Elementary School

بازخورد:

هدف: درک مختصات نقطه

مانند نقشه ی داده شده شکل ها را رسم کن









پیش‌گامی و حسن‌نظر جوانی پسرانه  
نشاط علم پویا  
Neshat Elm Pousha Elementary School

موضوع :

تاریخ :

هدف :

بازخورد :

Area with horizontal dotted lines for writing.



پیشرفتگی و حسنکن غیر جوانی پسرانه  
نشاط علم پویا  
Neshat Elm Pousha Elementary School

موضوع :

تاریخ :

هدف :

بازخورد :

Area with horizontal dotted lines for writing.