







۵-۲	۱
۱۰-۶	۲
۱۴-۱۱	۴
۱۸-۱۵	۴
۲۳-۱۹	۵
۲۶-۲۴	۶
۳۰-۲۷	۷
۳۴-۳۱	۸
۳۹-۳۵	۹
۴۳-۴۰	۱۰
۴۷-۴۴	۱۱
۵۲-۴۸	۱۲
۵۶-۵۳	۱۴
۶۱-۵۷	۱۴
۶۷-۶۲	۱۵
۷۲-۶۸	۱۶
۷۶-۷۳	۱۷
۸۱-۷۷	۱۸
۸۷-۸۲	۱۹
۹۱-۸۸	۲۰
۹۶-۹۲	۲۱
۱۰۱-۹۷	۲۲
۱۰۶-۱۰۲	۲۳
۱۱۱-۱۰۷	۲۴
۱۱۷-۱۱۲	۲۵

تما




۱ - به تعداد هر شکل خانه مقابل را رنگ کن .



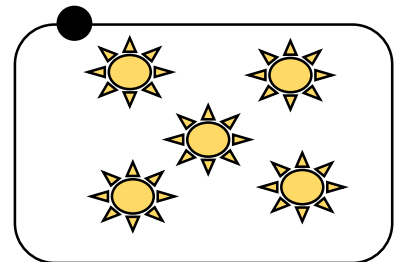
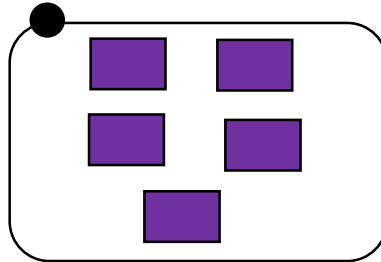
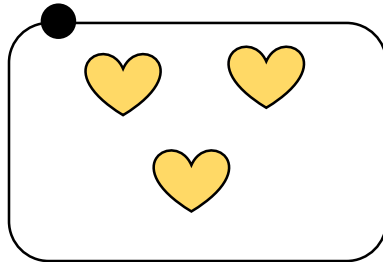

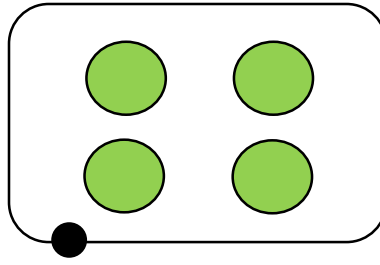
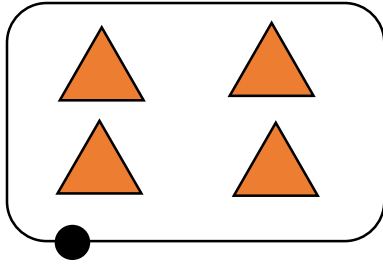
					
					
					
					

۲ - تعداد شکل های مثل هم را بشمار و مانند هم رنگ کن .

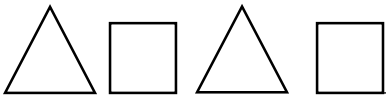




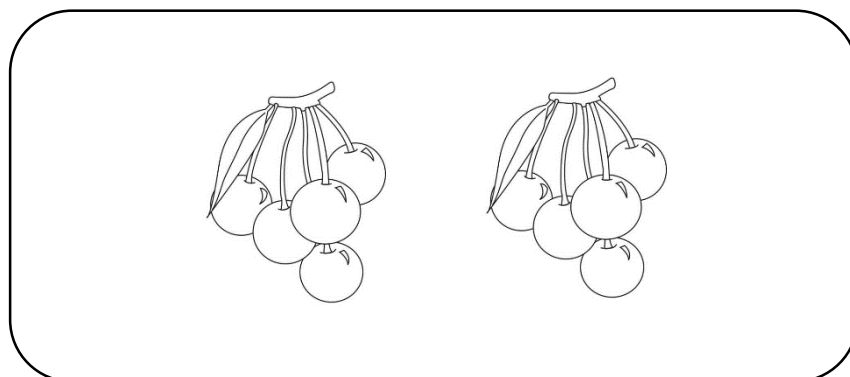
۳ - دسته ای که تعداد شکل هایشان مثل هم است را یک رنگ بزن و به هم وصل کن .



۴ - الگو شکل ها را به همان ترتیب ادامه بده .





۵ - شکل سمت راست را رنگ بزن .








۶- به تعداد هر شکل خانه ی مقابل آن را رنگ کن .







۷- الگوهای منظم را پیدا کن و رنگ بزن .






۸- دسته هایی که تعداد شکل هایشان مثل هم هست را با خط کش به هم وصل کن .









۹- به تعداد انگشتان هر دست شکل بکش.



تم ۲



۱ - به تعداد شکل های سمت چپ از شکل های سمت راست رنگ بزن .



۲ - فرزندم در هر قسمت با توجه به رنگ های داده شده الگوی درست را رنگ بزن .

قرمز

آبی

سبز

سبز	آبی	قرمز
-----	-----	------


قرمز	آبی	سبز
------	-----	-----


۳ - جدول‌های زیر را با توجه به نام رنگ‌های داده شده خانه‌ها را رنگ بزن .

سبز	زرد	قرمز
قرمز	سبز	زرد
زرد	قرمز	سبز

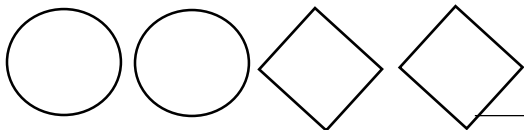
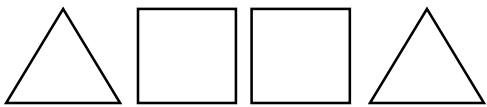
قرمز	سبز	آبی
سبز	آبی	قرمز
آبی	قرمز	سبز

۴ - به تعداد شکل‌ها در هر دسته دایره بکش .

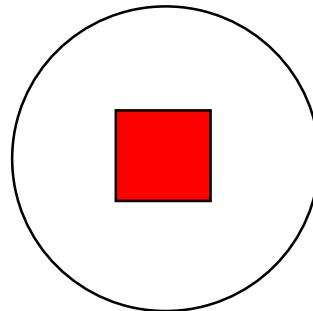









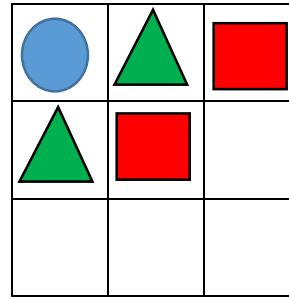
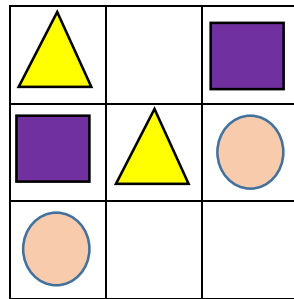

۵ - الگوها را ادامه بده .



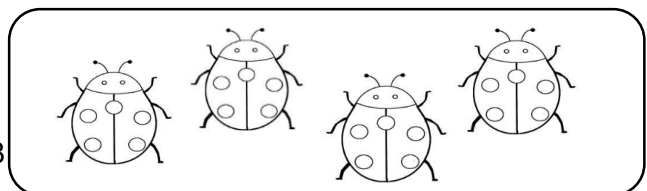



۶- هر دسته را با خط کش به تعداد انگشت مناسب وصل کن .





۷- جدول ها را با شکل های مناسب کامل کن.



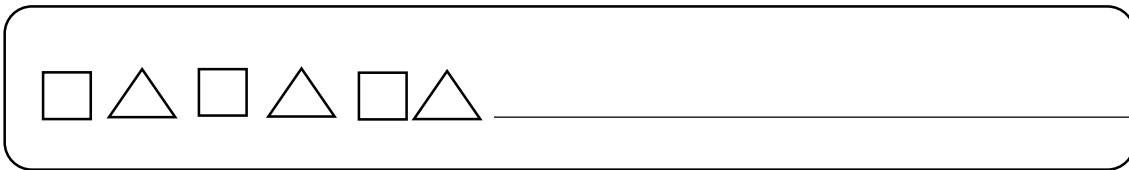
۸- به تعداد شکل های سمت چپ از شکل های سمت راست رنگ بزن .



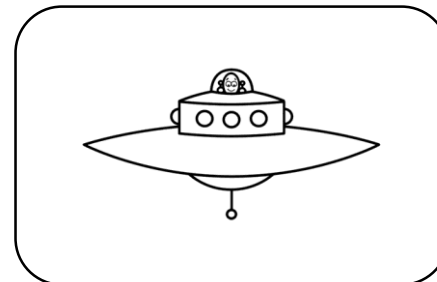
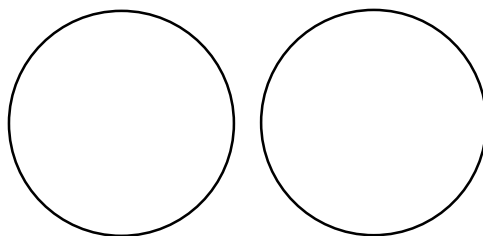


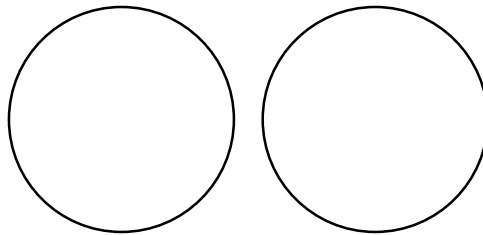

۹ - جدول های شگفت انگیز را با شکل های داده شده کامل کن .



۱۰ - الگو های منظم زیر را ادامه بده .




۱۱ - تعداد شکل های دسته ی سمت راست را با انگشتان دست راست و تعداد شکل های دسته ی سمت چپ را با انگشتان دست چپ خود و به تعداد شکل های هر طرف داخل دایره ها مثلث بکش .





۱۲ - اگر به انگشتان هر دست یکی اضافه شود چند می شود؟ برای آن دایره بکش.



۱۳ - خانه هایی را که یک نقطه دارد را سبز و خانه هایی را که دو نقطه دارد را قرمز کن

.			.			.			.
	..				..				..
.		.		.		.		.	
	..		..		..		..		..



۱ - شکل‌های دو دسته روی هم چند تا می‌شود، مربع بکش.

۲ - مربع‌های شگفت‌انگیز را با رنگ مناسب کامل کن (رنگ‌های ذکر شده، رنگ شود)


قرمز	سبز	آبی	زرد
زرد	آبی	سبز	قرمز
سبز	قرمز	زرد	آبی
آبی	زرد	قرمز	سبز

۳ - الگو را ادامه بده و با توجه به رنگ ذکر شده رنگ کن.

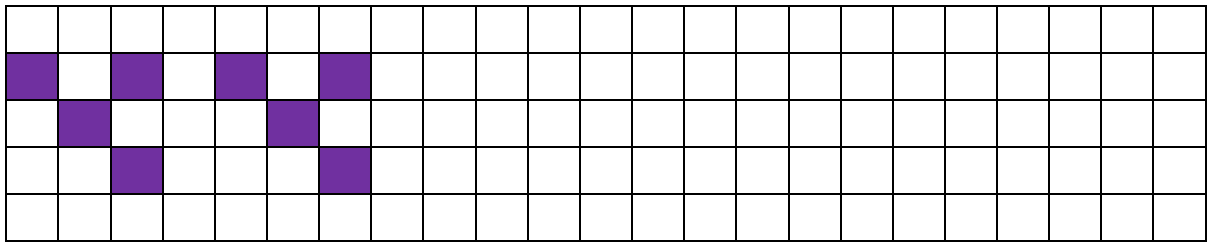
آبی	آبی	آبی		آبی	آبی	آبی								
قرمز		قرمز		قرمز		قرمز								




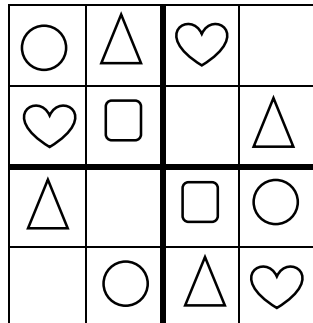
۴- به هر دسته دو شکل اضافه کن و بگو چند تا می شود و برای آنها دایره بکشید.



۵- الگوی زیر را با رنگ آبی ادامه بده .



۷- مربع های شگفت انگیز را با شکل های مناسب کامل کن .




۷- تعداد شکل های هر دو دسته روی هم چند تا می شود ، به دست مربوط به آن وصل کن .






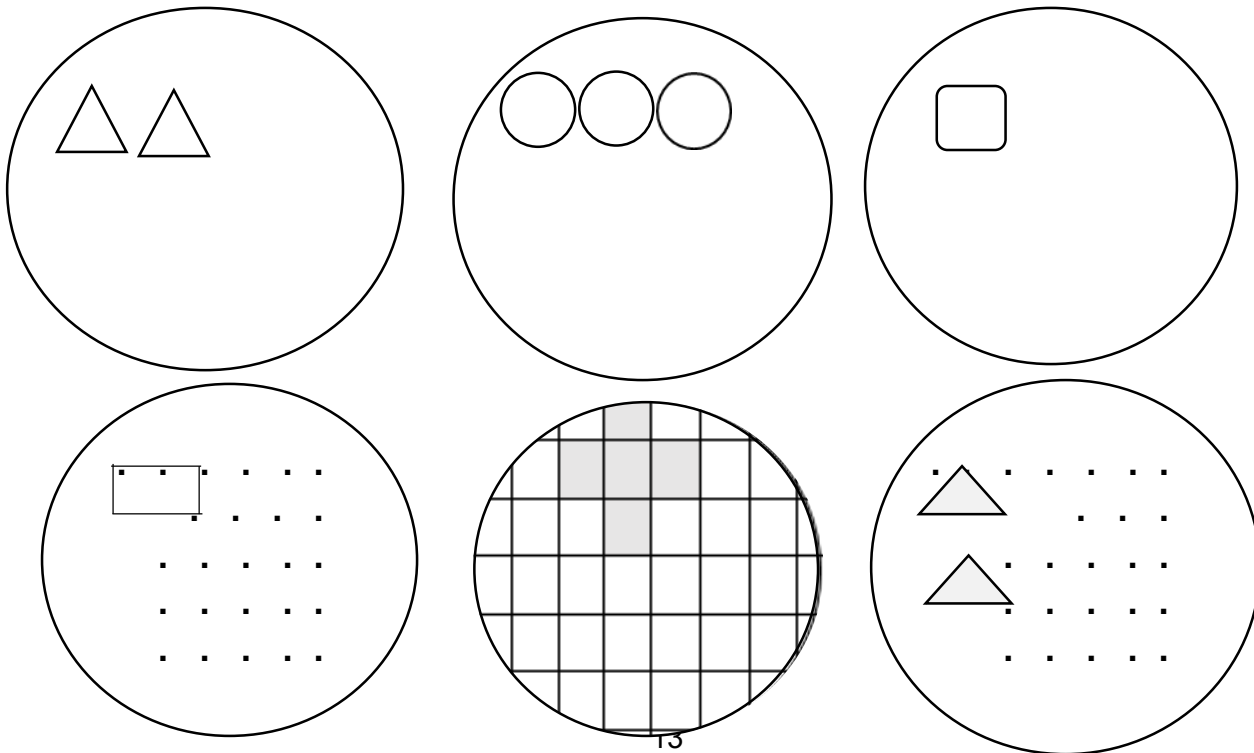
۹- اگر به شکل های زیر دو تا اضافه شود ، بگو چند تا می شود؟ از دایره ها رنگ کن .



۱۰- توپ سمت چپ را رنگ بزن .

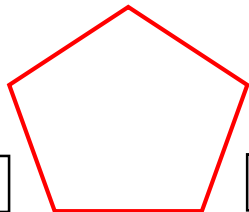
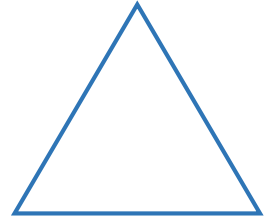

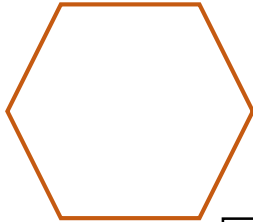


۱۱- ابتدا تعداد شکل های هر دسته را بدون شمردن بگو ، سپس دو تا شکل به هر دسته اضافه کن و بگو چند تا می شود؟








۱- گوشه های هر شکل را رنگ کن به تعداد گوشه های هر شکل چوب خط بکش.



۲- الگوها را ادامه بده .








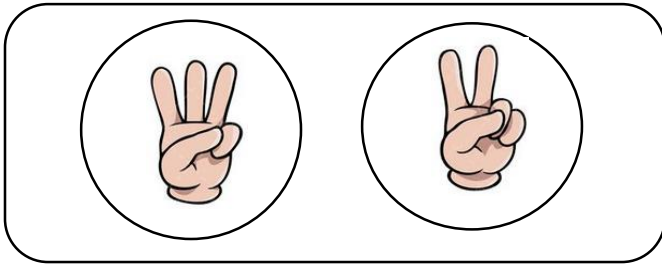
\_\_\_\_\_



\_\_\_\_\_






۳- به تعداد انگشتان باز شده چوب خط بکش .






۴- مانند نمونه به تعداد هر شکل چوب خط بگذار و خانه‌ها را رنگ کن.

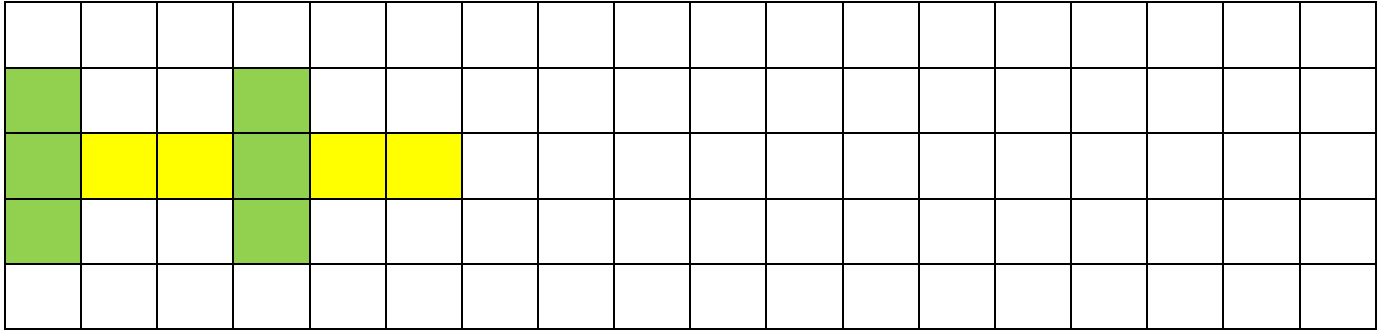







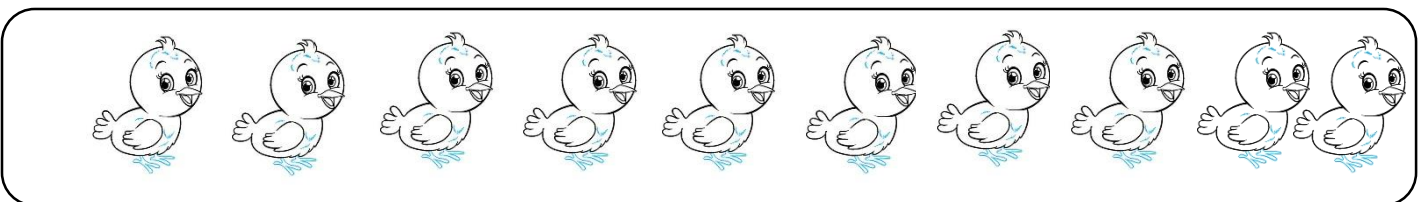
۵- ادامه ی الگو زیر را ادامه بده .



۶- در هر شکل گوشه ها را (قرمز) و لبه ها را (سبز) کن و تعداد هر کدام را با چوب خط نشان بده .

					شکل
					تعداد گوشه ها
					تعداد لبه ها

۷- با تصاویر زیر یک الگوی منظم رنگ آمیزی کن.














۳- انگشتان یک دست را باز کن . به تعداد شکل ها انگشتان خود را ببند و به تعداد انگشتان باقی مانده

چوب خط بکش .




۴- شکل های سمت چپ و راست با هم چندتا می شوند ؟ چوب خط رسم کن






۵ - از میان نقطه چین های زیر اشکال زیر را پیدا کرده و پررنگ کن .


زرد




آبی



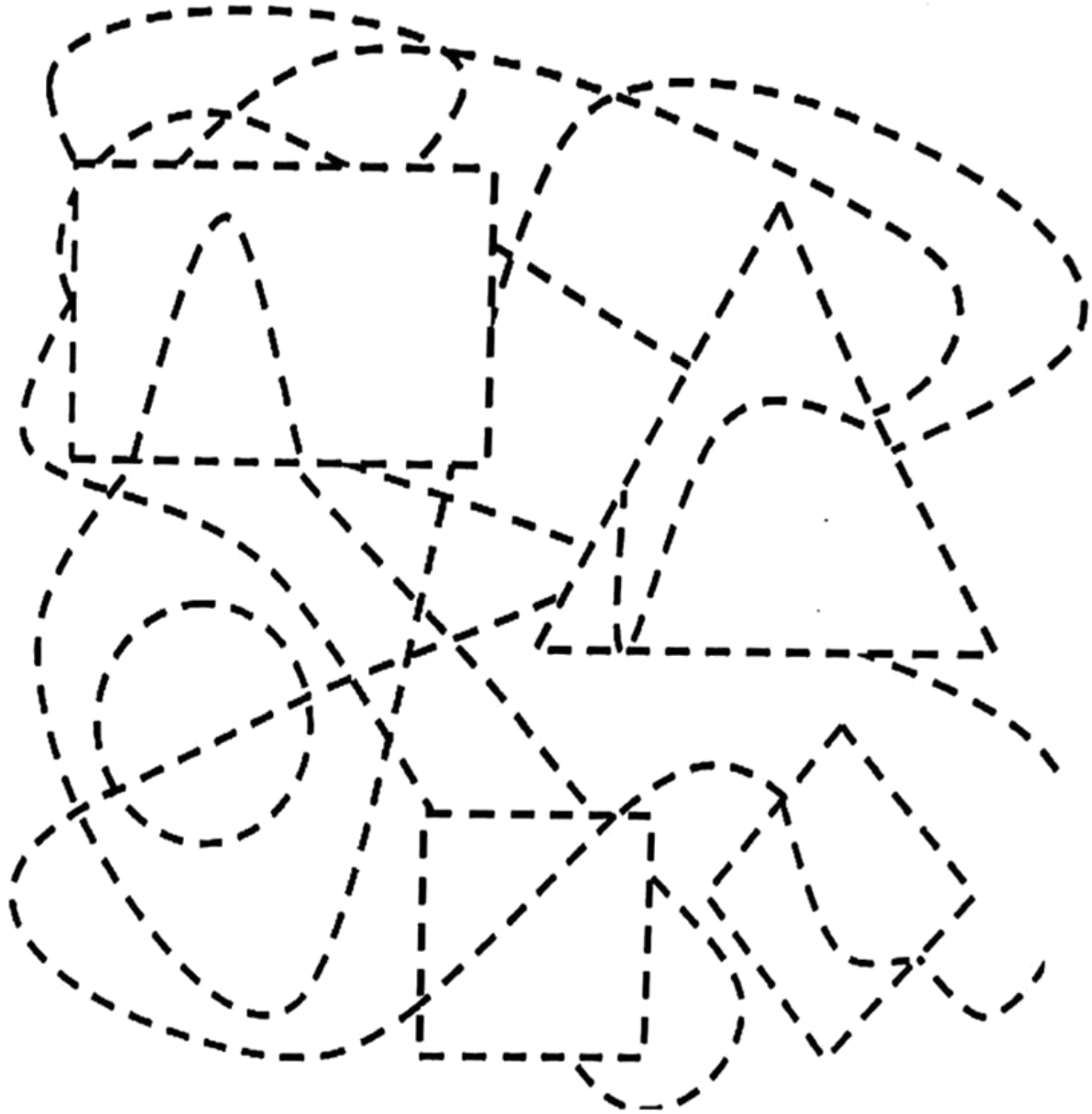
سبز



قرمز





بنفش













۱۰ - مربع های شگفت انگیز را کامل کن .






۱- تعداد شکل های سمت چپ را با دست چپ و تعداد شکل های سمت راست را با دست راست نشان بده . این دو شکل روی هم چند تا هستند ؟  
 به همان تعداد از پروانه ها را رنگ کن .



۲- در هر قسمت با انگشتان یک دست نشان بده چند شکل وجود دارد . به تعداد شکل های مثل هم انگشتان دست را

ببند . با چوب خط نشان بده چند تا مانده است ؟



۳ - به تعداد چوب خط‌ها از شکل‌ها خط‌زده و به تعداد شکل‌های باقی‌مانده از دایره‌ها رنگ‌بزن.

۴ - شکل‌های هر دسته را با انگشت‌نشان بده بعد به تعداد شکل‌های مثل هم از انگشتان خود ببند. چند تا می‌ماند؟


به تعداد باقی‌مانده چوب خط بکش

24




۵ - به تعداد گل‌ها از پروانه‌های سمت چپ خط بزن . بعد به تعداد پروانه‌های باقی مانده از پروانه‌های

سمت راست را رنگ بزن .




۶ - در هر ردیف ابتدا الگو را ادامه بده . سپس در سمت راست الگویی نمونه الگو را بکش ( هر الگو با یک شکل).

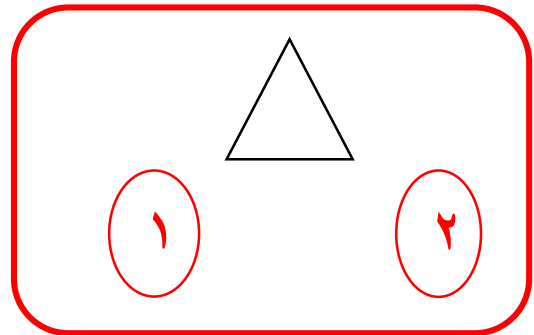

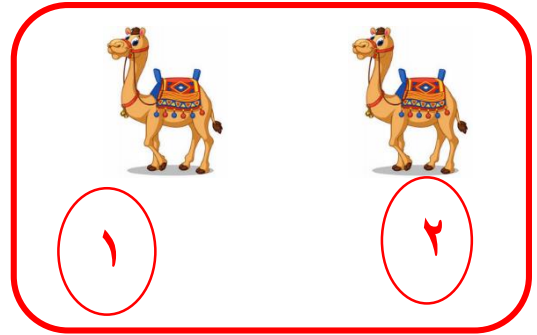




۹ - لبه‌ی شابلون را روی خط وسط کادر بگذار و ۴ شکل شابلون را بالای کادر بکش . حالا بدون اینکه شابلون خود را


برداری از همان خط وسط شابلون خود را برگردان و همان شکل‌ها را پایین کادر بکش .



۱ - عدد نامناسب را خط بزن.

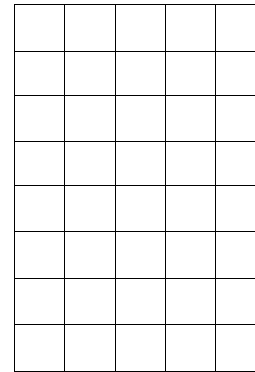
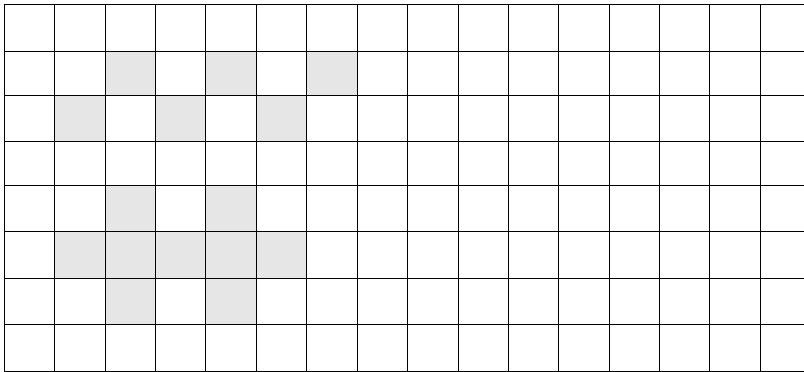


۲ - الگو را با خط کش با رنگ بنفش ادامه بده .









۳- در هر ردیف الگوها را به همان تعداد ادامه بده و شکلی را که در هر الگو تکرار می شود ، بکش.



( هر الگو با یک رنگ )

۴- به تعداد انگشتان سمت راست از انگشتان سمت چپ کم کن به تعداد انگشتان باقی مانده چوب خط بکش.



۵- مربع های شگفت انگیز را کامل کن .

قرمز	بنفش	سبز	زرد
سبز	زرد	بنفش	قرمز
بنفش	قرمز	زرد	سبز
زرد	سبز	قرمز	بنفش

△		☆	○
☆	○		
○	△	□	
		○	







۹- دور عدد مناسب خط بکش .



۲ ۱



۲ ۱



۲ ۱






۲ ۱



۱ ۲

۱۰- با کمک شابلون قرینه ی شکل ها را بکشید.


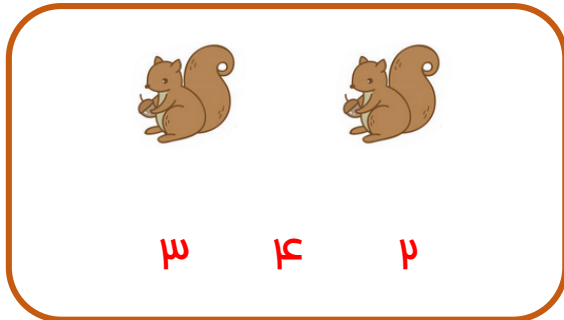

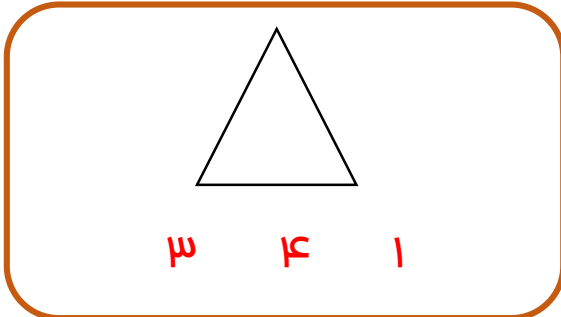



تم ۸






پیش دبستانی و دبستان غیر دولتی پسرانه  
نشاط علم پویا  
Nezhat Elm Pouya Elementary School

۱- در هر قسمت دور عدد مناسب خط بکش .

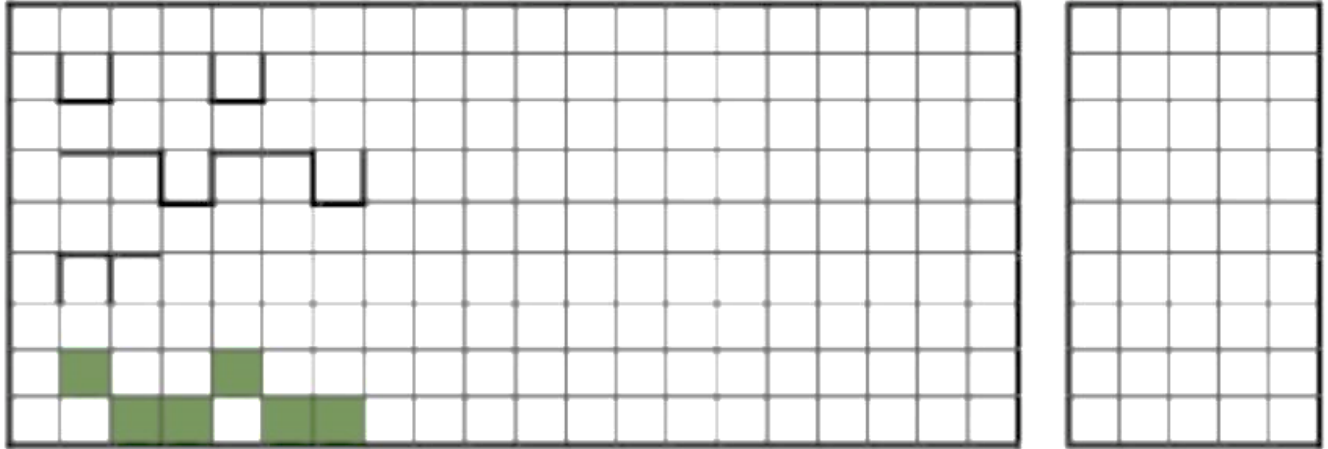


۲- عدد هر دسته را بنویس .






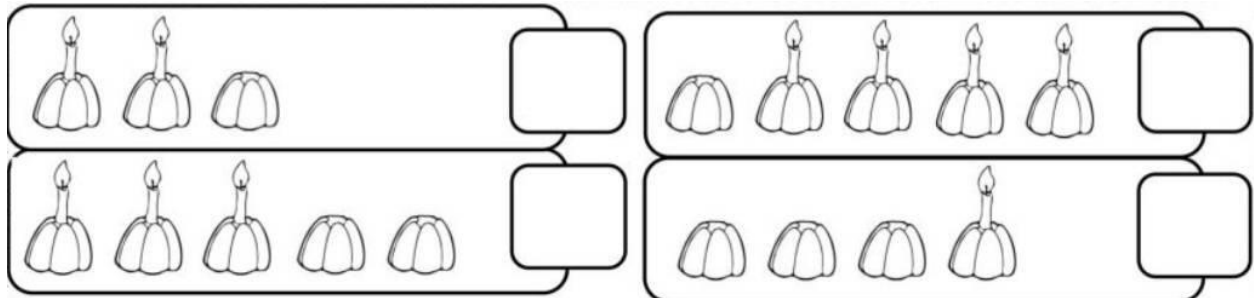
۳- الگوها را ادامه بده و شکلی را تکرار می شود در ستون سمت راست بکش. (هر شکل با یک رنگ)



۴- بلندی هر حیوان به اندازه ی چند موش است؟ عدد آن را بنویس



۵- در هر ردیف چند کیک بدون شمع مانده است؟ با چوب خط نشان بده.



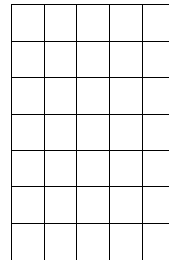
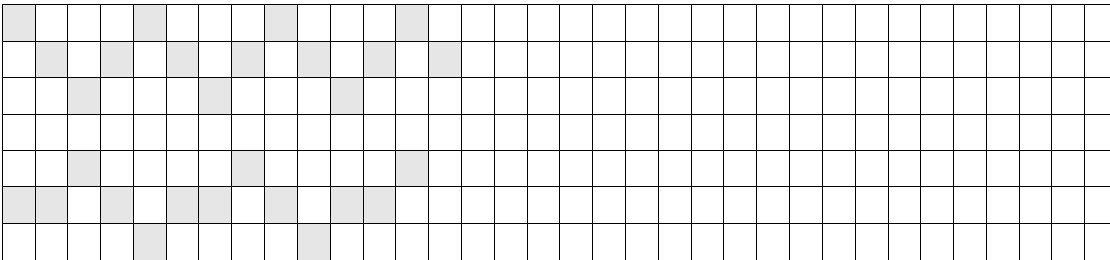


۶- مربع های شگفت انگیز را کامل کن .

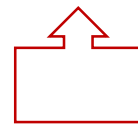
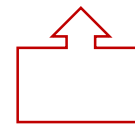
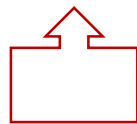
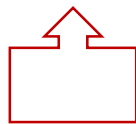
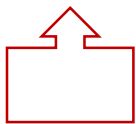
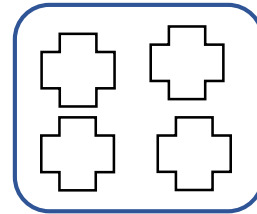
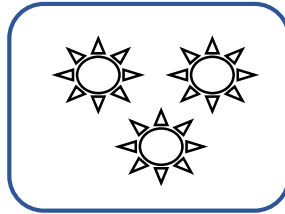


۱	۳	۲	
۲			۳
۳			۱
	۱		

۲	۱		۳
	۳		۲
۳			۱
۱		۳	




۷- الگوی زیر را ادامه بده . سپس نمونه الگویی را که کشیده ای در سمت راست بکش هر الگو با یک رنگ مختلف .



۸- شکل ها را رنگ بزن و عدد هر دسته را بنویس .



۹- دور عدد مناسب خط بکش .



۳ ۴

۲ ۳


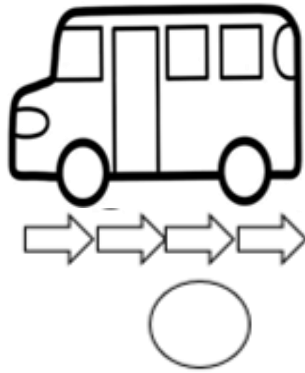
۲ ۱

۳ ۴

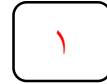

۲ ۳




۱۰ - اندازه ی هر شکل چند تا فلش است ؟ عدد آن را بنویس .





۱۱ - برای عدد نوشته شده داخل بادکنک ها شکل بکش .



۹ تم






۱- در هر قسمت چند تا شکل وجود دارد؟ با چوب خط نشان بده و عدد مربوط به آن را بنویس.

















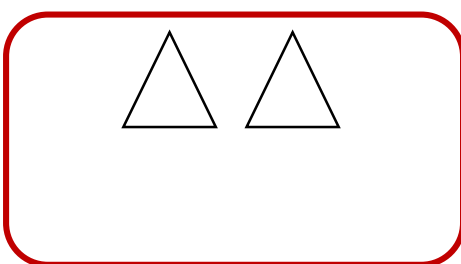
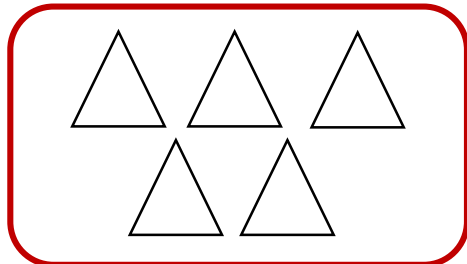

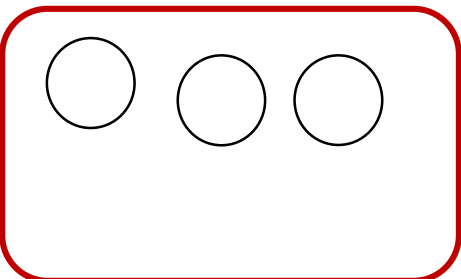
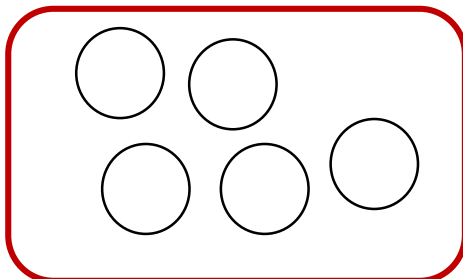

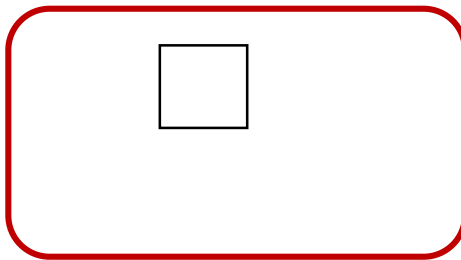
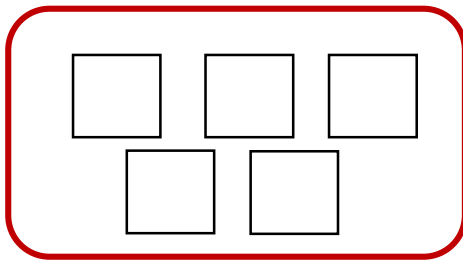
۲- شکل های سمت راست و چپ روی هم چند تا است؟ با عدد نشان بده.









۳- اگر به تعداد شکل های سمت راست از شکل های سمت چپ برداریم چند تا می ماند؟ عدد آن را بنویس

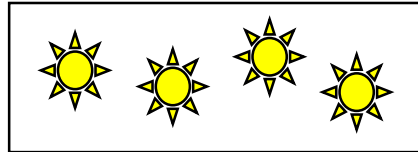
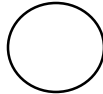


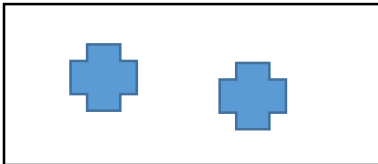
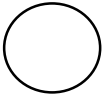
۴- با عدد صفر یک شکل زیبا طراحی کن .


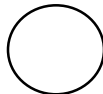


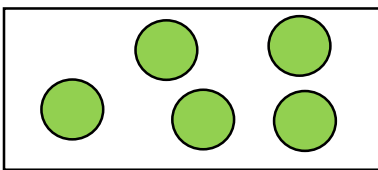
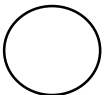
۵- تعداد هر شکل چند تا است ؟ ابتدا برای آن چوب خط بکش ، سپس عدد آن را بنویس .

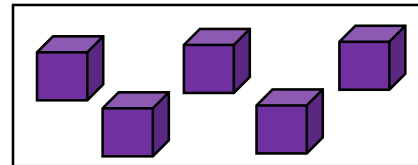
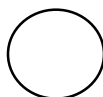


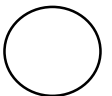












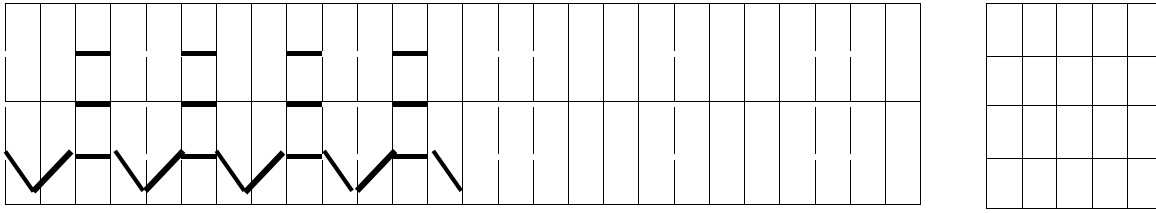
۶- مربع های شگفت انگیز را کامل کن .

۵	۴	۲	
۲	۳		۴
۴			۵
	۵	۴	

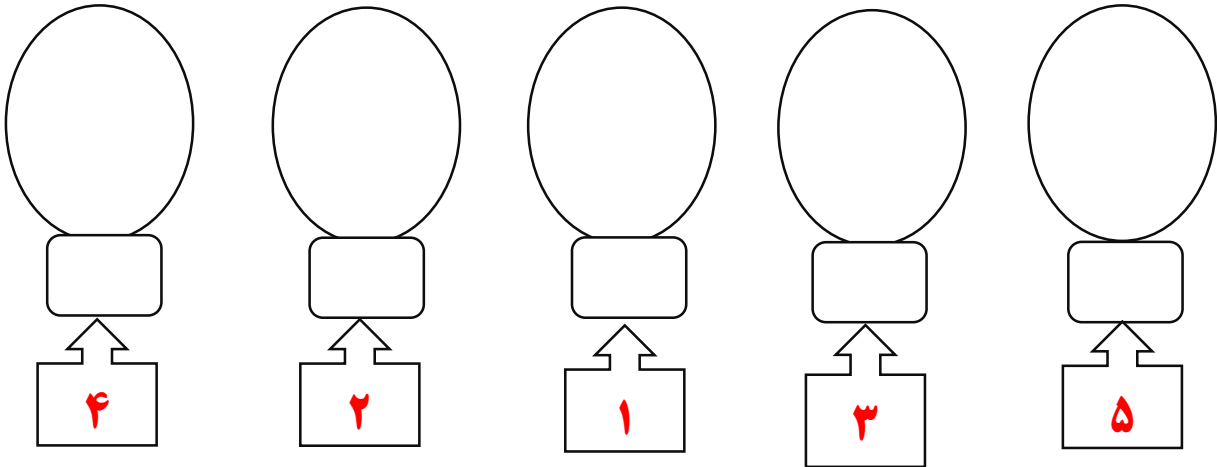
۲	۵		
	۴	۵	۲
۴	۳		۵
۵		۴	



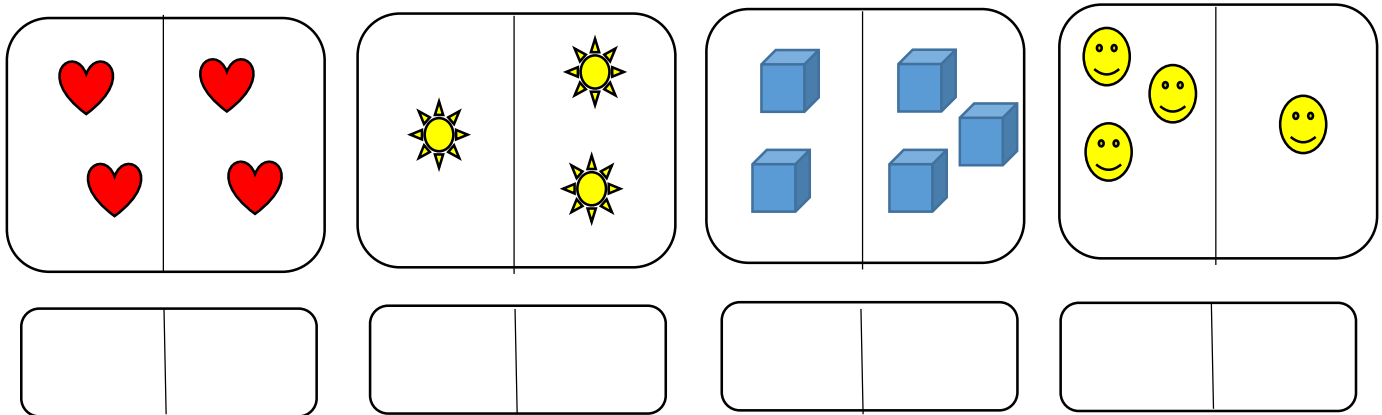
۷- ابتدا الگوی زیر را بکش ، سپس الگویی را که پیدا کرده ای در سمت راست بکش ( هر الگو با یک



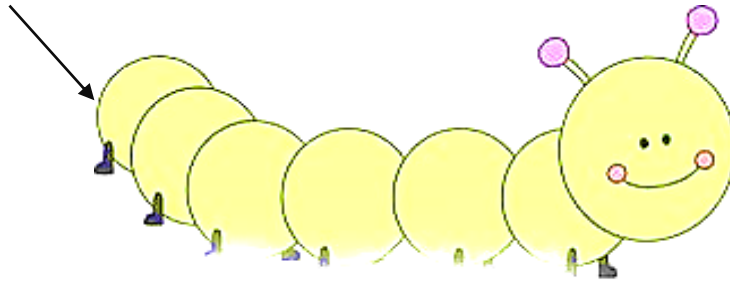
۸- برای هر عدد بالای آن چوب خط کشیده و در دایره به تعداد عددها مثلث بکش و آن ها را رنگ بزن .



۹- در هر قسمت شکل ها روی هم چند تا می شود ؟ در سمت چپ چوب خط و در سمت راست عدد آن را بنویس.

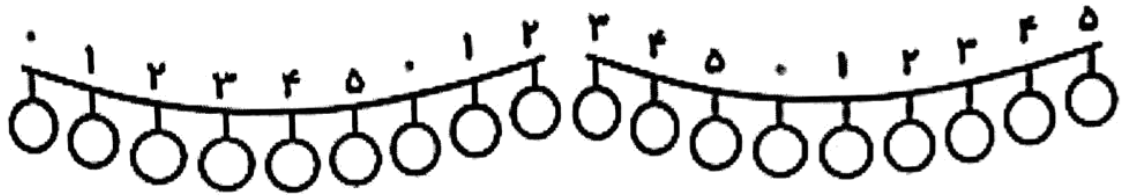


۱۰- از صفر تا ۵ را به ترتیب بنویس.





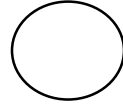
۱۱- با توجه به راهنما رنگ آمیزی کن.

۰ قرمز / ۱ سبز / ۲ زرد / ۳ نارنجی / ۴ بنفش / ۵ آبی



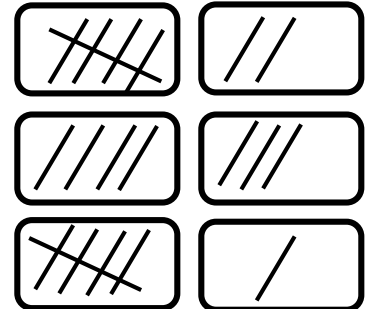
۱۲- با توجه به شکل مقابل تعداد هر شکل را بنویس:





۱- به تعداد چوب خط های سمت چپ رنگ قرمز و به تعداد چوب خط های سمت راست رنگ زرد بزن.


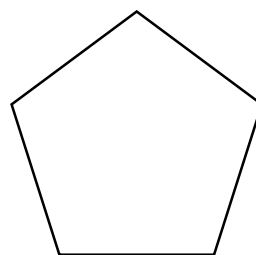




۲- با عدد های زیر یک نقاشی زیبا بکش.



۳- مانند نمونه و با استفاده از خط کش ، خطی بکش که شکل را به دو نیمه کرده ، سپس هر نیمه را یک رنگ بزن .





۴ - جدول را کامل کن .

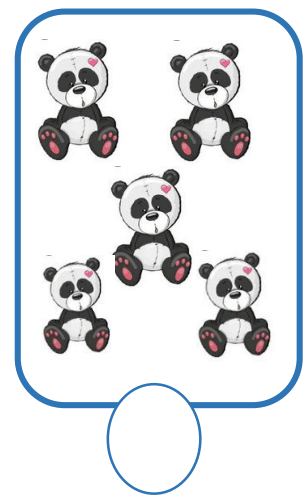






پیش دبستانی و دبستان غیر دولتی پسرانه  
**نشاط علم پویا**  
 Nezhat Elm Pouya Elementary School

۱	۲	۵		۶	۳
۴	۶		۵	۱	۲
۵	۱	۴		۲	۶
۶	۳		۱	۴	۵
۲	۵	۱		۳	۴
۳	۴		۲	۵	۱

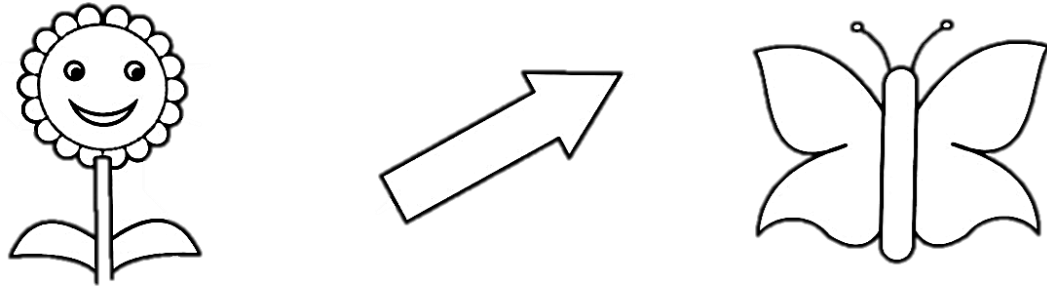
۴	۶			۱	۲
۱	۲	۵	۴	۶	۳
۲	۵			۳	۴
۳	۴	۶	۲	۵	۱
۵	۱	۴	۳	۲	۶
۶	۳			۴	۵

۵ - عدد مر بوط به هر دسته را زیر آن بنویس . در هر قسمت دسته ای را که شکل های بیشتری دارد را دور شکل آن خط


بکش .




۷- با استفاده از خط کش هر شکل را به دو نیمه ی مثل هم تقسیم کن و هر دو نیمه را مثل هم رنگ کن:



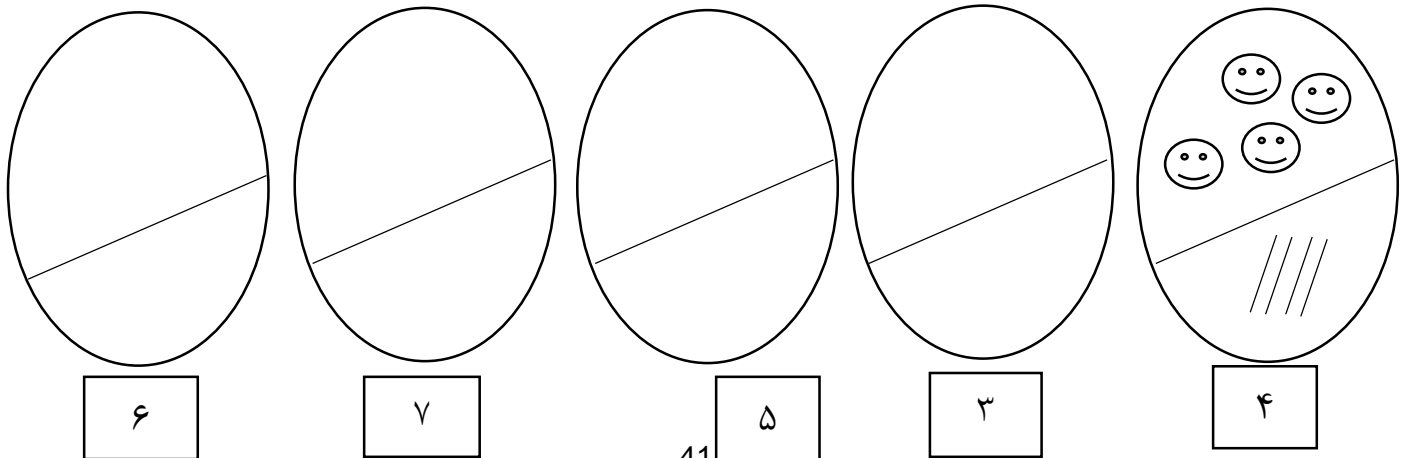
۷- انگشتان یک دست را تا جایی که امکان دارد به دست دیگر منتقل کن و مانند نمونه با چوب خط نشان بده .



۹- مانند نمونه الگوی سمت راست در سمت چپ بکش و با رنگ سرمه ای ادامه بده.




۱۰- بالای هر عدد مانند نمونه چوب خط و شکل دلخواه بکش و آن ها رنگ بزن .

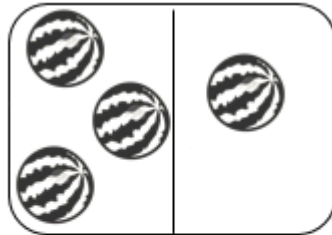





۱۱ - در هر قسمت شکل ها روی هم چند تاست ؟ با چوب خط و عدد نشان بده .




--	--



--	--


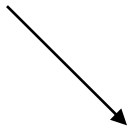


--	--



--	--


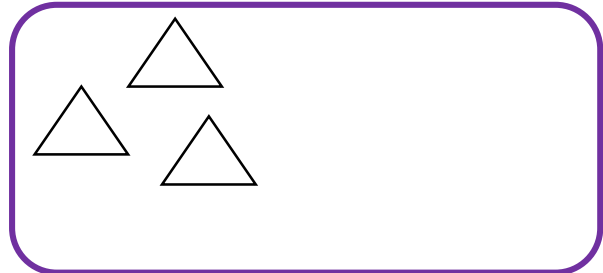
۱۲ - از ۰ تا ۷ را به ترتیب بنویس .



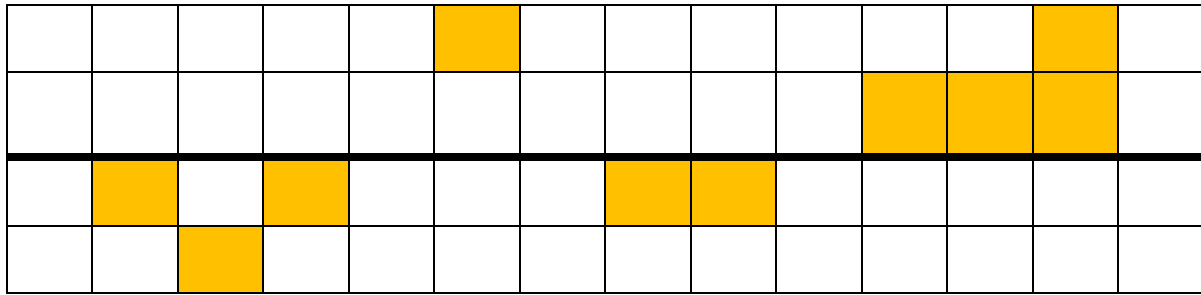
تم ۱۱





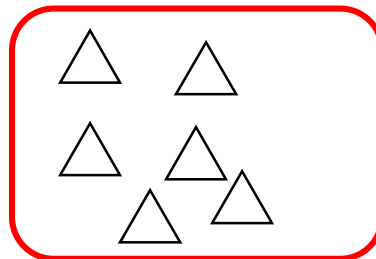
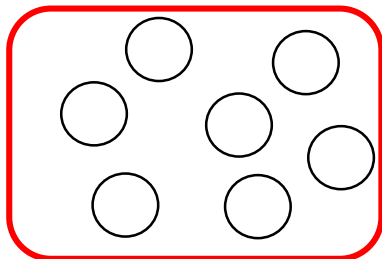
۱- در هر قسمت ، در سمت راست آن قدر شکل بکش که تعداد آن با دسته ی سمت چپ برابر شود .

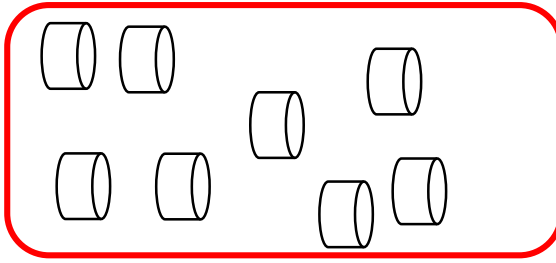



۲- قرینه ی هر شکل را طوری کامل کن که دو نیمه مثل هم شود .(رنگ سبز)



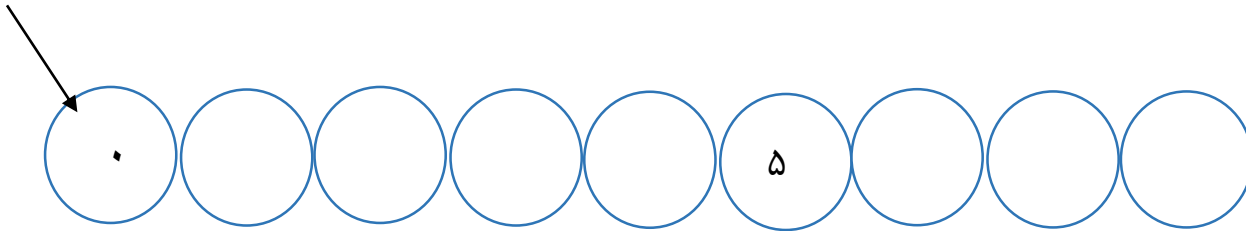
۳- تعداد هر دسته را نوشته و اگر تعداد شکل های هر دسته با هم برابر است علامت مساوی بگذار .





Two empty rectangular boxes for counting the items in the previous boxes.


۴- از صفر تا ۸ را به ترتیب بنویس .



۵- تعداد هر شکل را با عدد و چوب خط نشان بده .



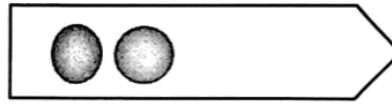
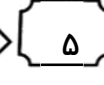
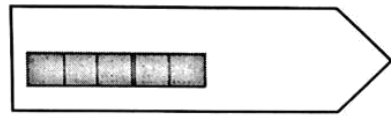






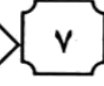


Two empty yellow-bordered boxes for counting the cakes in the previous box.

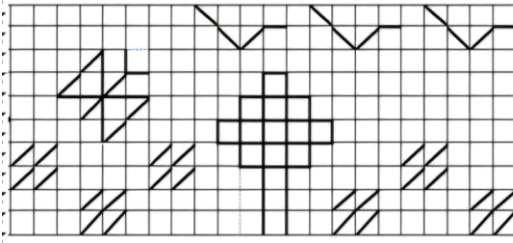



Two empty purple-bordered boxes for counting the cakes in the previous box.





۶- شکل ها را به تعداد عدد داده شده کامل کن .

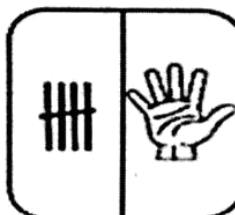
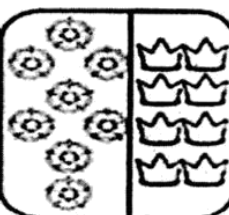
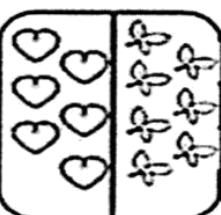

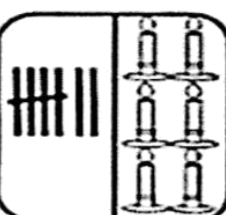


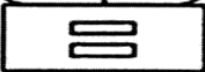

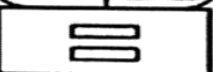
۷- با خط کش شکل مقابل را در قسمت روبرو در خانه های شطرنجی بکش . (شکل ها به صورت رنگی کشیده شوند)

	
---	---

۸- عدد هر دسته را داخل دایره بنویس .


			
---	---	--	---

۹- عدد هر قسمت را زیر آن بنویس و اگر تعداد دو طرف با هم برابر است علامت مساوی را رنگ بزن .

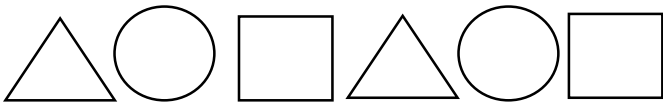
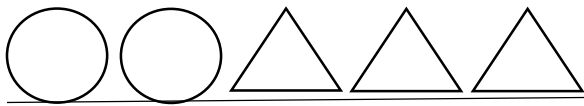
				
				



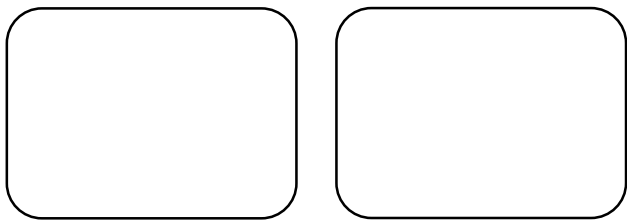
۱۰- از هر شکل چند تا هست؟ با چوب خط نشان بده و عدد مناسب آن را بنویس.



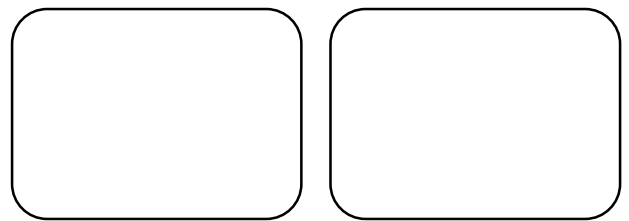
۱۱- الگوی کشیده شده را با شابلون ادامه بده.



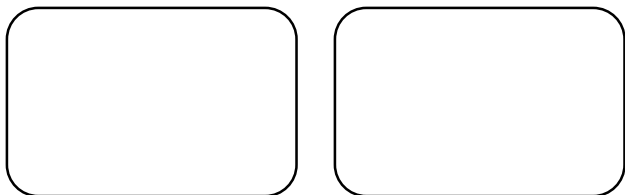
۱۲- با توجه به عدد و علامت داده شده برای هر دسته شکل مناسب بکش:



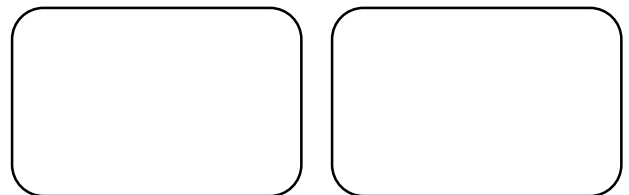
$$۸ = ۸$$




$$۵ = ۵$$




$$۷ = ۷$$

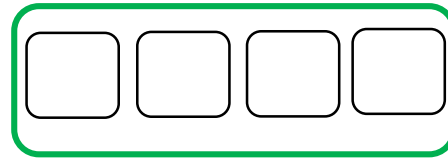



$$۶ = ۶$$

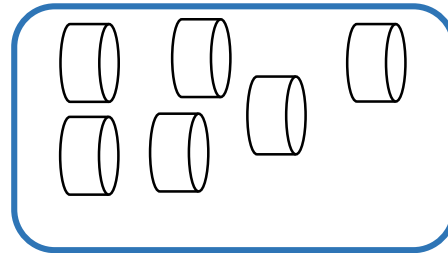



۱ - عدد هر دسته را بنویس . شکل های دسته ی کمتر را رنگ کن
















۳- عدد هر دسته را داخل مثلث ها بنویس و شکل های دسته کمتر را رنگ بزن .



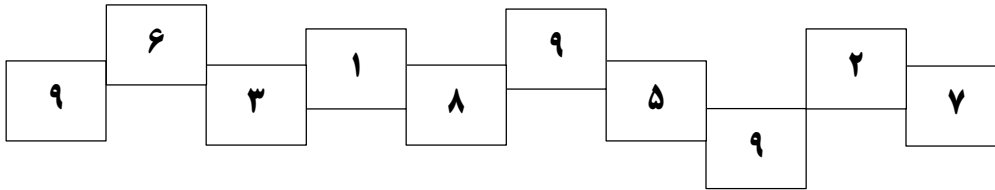


۴- مربع های شکت انگیز را کامل کن .

۹	۵	۳	۴	۱	۶	۸		۷
	۸		۳	۷		۵		۶
۶	۲	۷		۵	۸	۳	۴	۱
۸	۶	۴	۷	۹	۳		۵	۲
۳		۹	۲		۵	۶		۴
۲	۷	۵	۶	۴	۱	۹	۸	۳
۵	۳	۸	۱	۲	۷		۶	۹
۷	۴			۳		۲	۱	
۱		۲	۵	۶	۴	۷	۳	۸

۵- خانه های جدول را طوری رنگ که دو دسته مثل هم باشند . (رنگ نارنجی)


۶- خانه عدد های کمتر از ۹ را رنگ بزن .



۷- برای چوب خط عدد مناسب بنویس و دور بیشترین عدد خط بکش .





۸- ابتدا در هر دسته عدد بیشتر را رنگ بزن و سپس آن را با چوب خط نشان بده .

۱	۴	۲	۵	۸	۱	۴	۳	۶	۳

۹- با توجه به تعداد شکل های داخل جعبه ، جدول ستونی زیر را کامل کن و عدد آن را بنویس . (هر ستون با رنگ های

مختلف رنگ شود)

۵						

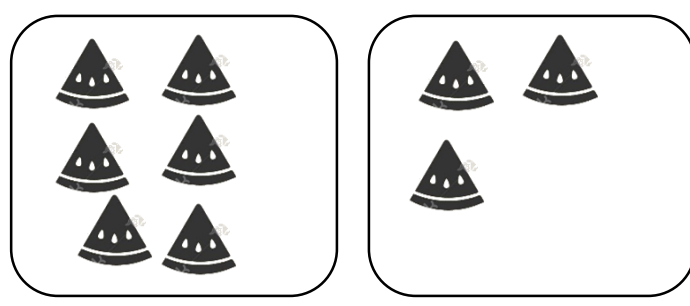

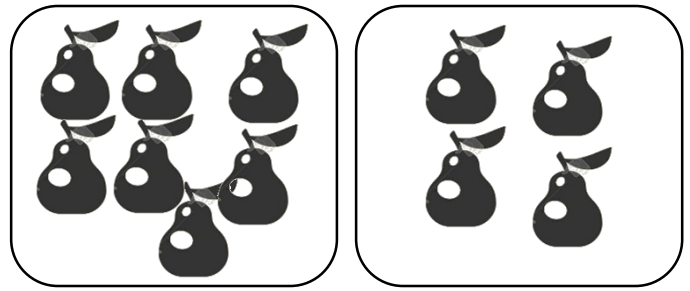
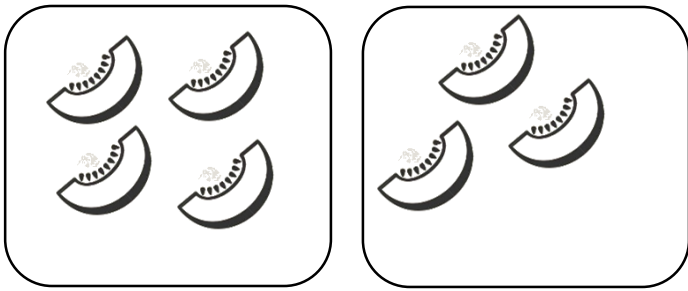
۱۰- در هر قسمت عدد هر دسته را بنویس و دسته ی بیشتر را رنگ کن:

 <input type="text"/>	 <input type="text"/>	 <input type="text"/>	 <input type="text"/>
 <input type="text"/>	 <input type="text"/>		

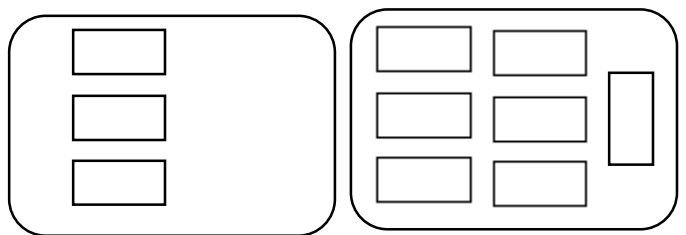
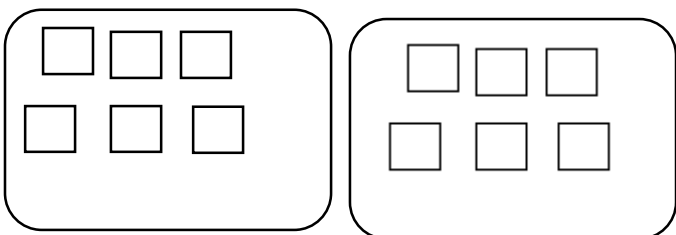
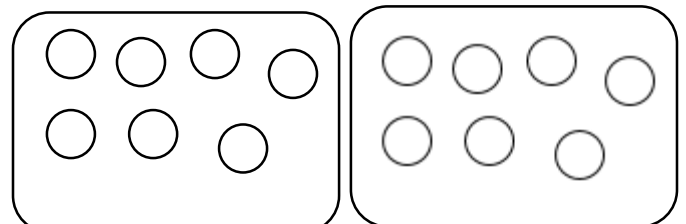
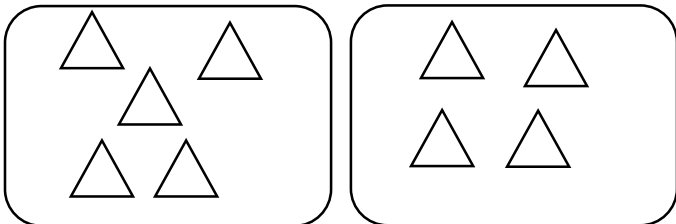


۱۱- عدد هر دسته را بنویس و از علامت بیشتر > استفاده کن :

پیش دبستانی و دبستان غیر دولتی پسرانه  
**نشاط علم پویا**  
 Nezhat Elm Pouya Elementary School

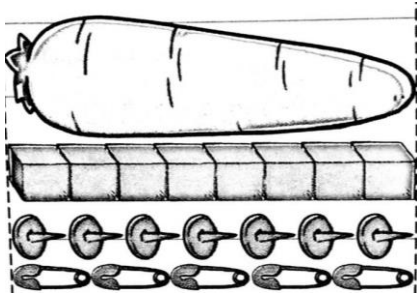


۱۲- عدد هر دسته را بنویس و علامت < = > بگذار :





۱۳ - اندازه ی هویج چند تا شکل کوچک است ؟ عدد آن را بنویس.



\_\_\_\_\_



\_\_\_\_\_



\_\_\_\_\_



۱۴ - بین دو عدد علامت  $< = >$  قرار بده و بخوان .

۳ ○ ۴

۹ ○ ۱

۶ ○ ۶

۲ ○ ۶

۵ ○ ۹

۸ ○ ۷

۴ ○ ۵

۱ ○ ۳

۰ ○ ۷

۲ ○ ۲

۹ ○ ۹

۸ ○ ۰

تم ۱۳



۱ - عدد مربوط به هر شکل را بنویس و با چوب خط حساب کن  
و حاصل جمع را بنویس.

	+		=	<input type="text"/>
<input type="text"/>	+	<input type="text"/>	=	<input type="text"/>

	+		=	<input type="text"/>
<input type="text"/>	+	<input type="text"/>	=	<input type="text"/>

۲ - در جای خالی عدد مناسب بنویس .

..... + ..... = ۴

..... + ..... = ۳

..... + ..... = ۲

..... + ..... = ۵

۴ - برای شکل های زیر یک جمع بنویس.

$۲ + ۷ =$	<input type="text"/>	<input type="text"/>	<input type="text"/>	<input type="text"/>



۴- به تعداد عدد سمت چپ از مربع ها قرمز و به تعداد عدد سمت راست از مربع ها زرد کن . چند تا مربع رنگ شده ؟ حاصل جمع را بنویس .

$3 + 4 =$

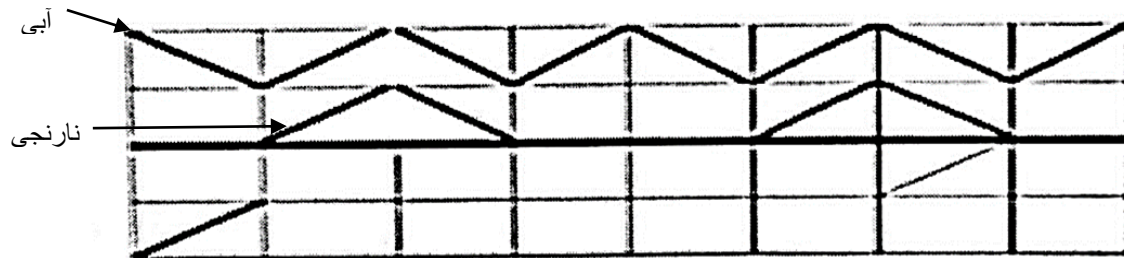
$6 + 3 =$

$5 + 3 =$

۵- مربع شگفت انگیز را کامل کن .


۸	۷	۴	۵		۲	۳	۶	۱
۶		۱	۳	۷	۴	۸		۹
۳	۵		۸	۱	۶		۴	۲
۹	۶	۷	۴	۲	۵	۱	۸	۳
	۳	۵		۸		۴	۲	
۲	۴	۸	۷	۳	۱	۵	۹	۶
۴	۹		۱	۵	۳		۷	۸
۵		۳	۹	۶	۷	۲		۴
۷	۱	۶	۲		۸	۹	۳	۵

۶- جدول را طوری کامل کن که دو نیمه قرینه ی هم باشند.

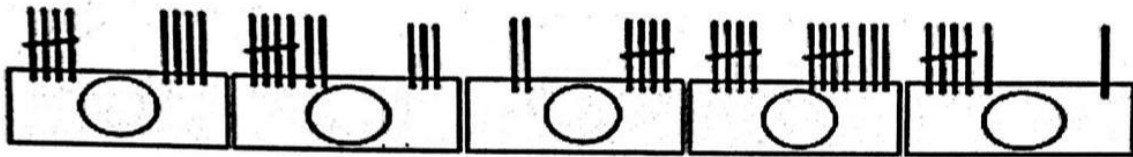




۷- عدد های بیشتر از ۶ را رنگ کن .



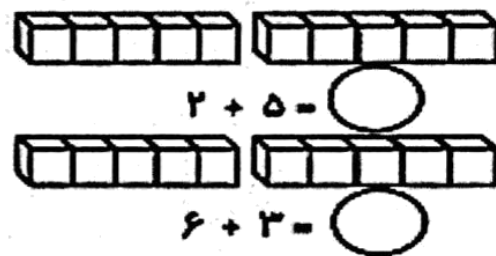
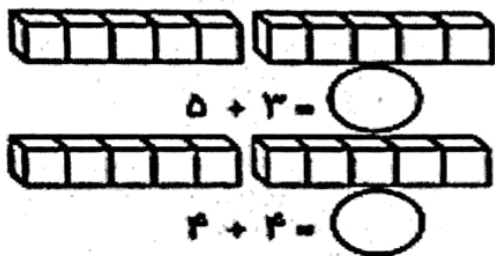
۸- برای چوب خط ها عدد بنویس و بین دو عدد علامت  $< = >$  بگذار .



۹- بین اعداد به طور مناسب علامت  $< = >$  قرار بده .

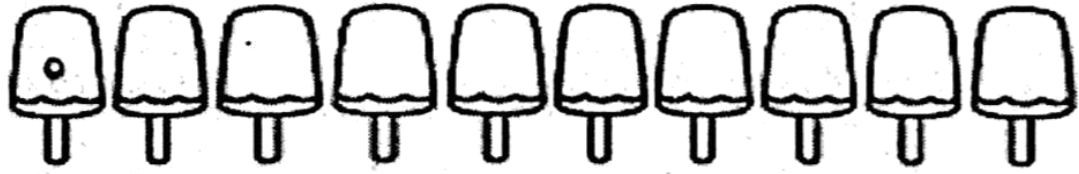


۱۰- حاصل جمع های زیر را با کمک رنگ کردن چینه ها به دست آورید ( عدد اول ، رنگ آبی / عدد دوم رنگ قرمز )


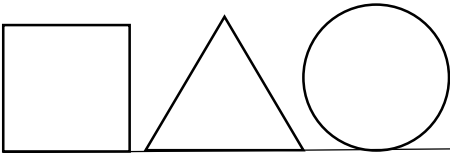




۱۱ - از صفر تا ۹ را به ترتیب بنویس.



۱۲ - الگوهای زیر را ادامه بده.



۱۳ - جمع های نظام دار انجام شود.

۲	
۰	۲

۳	

۴	

۵	

۶	



۱- مانند نمونه با کشیدن شکل یا رنگ زدن ، شکل ها را کامل کن و سپس جمع کن .



۲ + ۳ =



۵ + ۴ =



۷ + ۳ =

۲- مربع های شگفت انگیز پایین را کامل کن .

۴	۳	۵	۲	۱	۶
۱	۶		۴	۳	۵
	۲	۳	۶	۴	۱
۶	۴		۳		۲
۲	۵		۱		۳
	۱	۶	۵	۲	۴

۳- برای شکل های زیر یک جمع بنویس .

۲ + ۵ =





۴- جاهای خالی را با عدد مناسب کامل کرده و نمونه ی آخر را خودت رنگ کن .



$$\dots + \dots = \dots$$



$$\dots + \dots = \dots$$




$$۴ + ۰ + ۴ = \dots$$

۵- با توجه به تفریق ها از شکل ها خط بزن و حاصل را بنویس .

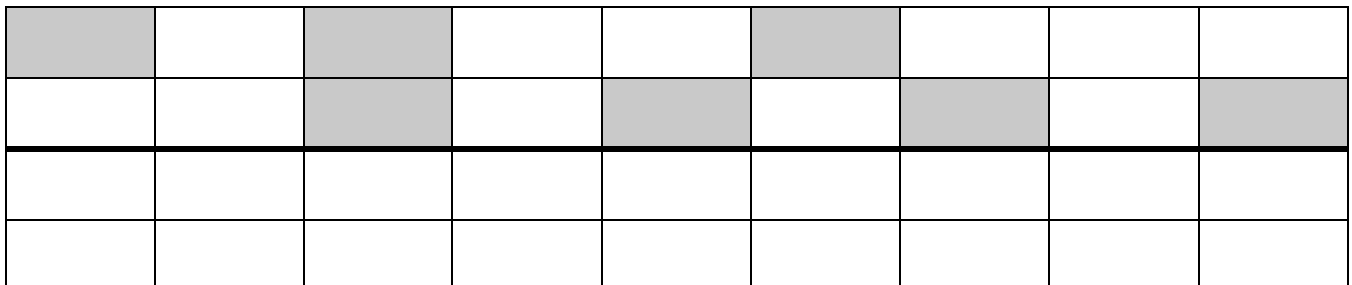


$$۱۰ - ۳ =$$




$$۸ - ۴ =$$

۶- خانه ها را طوری رنگ کن که دو نیمه قرینه هم باشد. (با رنگ بنفش)





۷- عدد های کمتر از ۴ را رنگ بزن .



۸- مانند نمونه تفریق های زیر را ابتدا رنگ بزن و سپس کم کن و جواب آن را بنویس.

$6 - 2 = \text{----}$		
$9 - 3 = \text{----}$		
$8 - 4 = \text{----}$		
$7 - 5 = \text{----}$		

۹- الگوهای زیر را ادامه بده .

۶ ۶ ۴ ۴ ۴ ○ ○ ○ ○ ○

پ پ ت ت ○ ○ ○ ○ ○ ○ ○ ○ ○ ○

۱۰- مانند نمونه برای تفریق های زیر شکل بکش و باقی مانده را بدست بیاور .

$5 - 3 = \bigcirc$	$4 - 4 = \bigcirc$	$6 - 3 = \bigcirc$	$9 - 5 = \bigcirc$



۱۱- جمع های مربوط به هر عدد را بنویس .

۷	
۰	۷

۸	
۵	

۹	
۱	

۱۰	

۱۲- مانند نمونه برای هر جمع از شکل ها رنگ کن (عدد اول زرد و عدد دوم سبز).

$3 + 5 = 8$

--	--	--	--	--	--

--	--	--	--	--

$4 + 2 = \dots\dots\dots$

--	--	--	--	--

--	--	--	--	--

$2 + 5 = \dots\dots\dots$

--	--	--	--	--

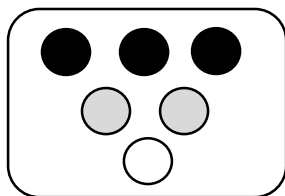
--	--	--	--	--

$7 + 2 = \dots\dots\dots$

--	--	--	--	--

--	--	--	--	--


۱۳- مانند نمونه جواب هر عبارت جمع را با کمک شکل پیدا کن و بنویس. (شکل ها را با ۳ رنگ باشند)



$3 + 2 + 1 = 6$



$4 + 1 + 2 = \dots\dots\dots$



$1 + 3 + 4 = \dots\dots\dots$




$$1 + 6 + 2 = \dots\dots\dots$$

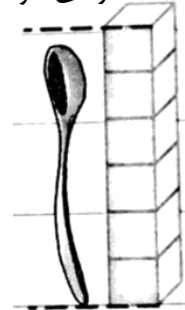


$$1 + 2 + 5 = \dots\dots\dots$$

۱۴- اندازه ی هر شکل چند تا شکل کوچک است ؟




اندازه ی مداد کمی بلند تر از ..... است.




اندازه ی قاشق کمی کوتاه تر از ..... مکعب است.

۱۵- برای هر شکل یک جمع و یک تفریق بنویس .



$$\dots\dots\dots + \dots\dots\dots = \dots\dots\dots$$

$$\dots\dots\dots - \dots\dots\dots = \dots\dots\dots$$




$$\dots\dots\dots + \dots\dots\dots = \dots\dots\dots$$

$$\dots\dots\dots - \dots\dots\dots = \dots\dots\dots$$

تم ۱۰

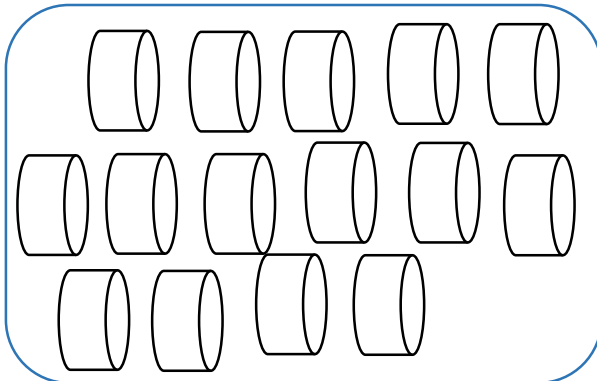


۱- در هر قسمت با توجه به عدد کنار آن ، شکل ها را با کشیدن خط دسته بندی کن .




3

..... دسته سه تایی  
و..... یکی



۵

..... دسته پنج تایی  
و..... یکی



8

..... دسته هشت تایی  
و..... یکی


۲- ابتدا دسته بندی کن و بعد جاهای خالی را با عدد مناسب کامل کن .

۳




..... دسته ۳ تایی  
و..... یکی

۶



..... دسته ۶ تایی  
و..... یکی

۹




..... دسته ۹ تایی  
و..... یکی

۵




..... دسته ۵ تایی  
و..... یکی

۳- اسباب بازی هایش را دسته بندی کن و جاهای خالی را پر کن.



..... دسته ی ۱۰ تایی و ..... یکی




..... دسته ی ۳ تایی و ..... یکی

۴- آقا کریم می خواهد بار هر کامیون را بشمارد . به او کمک کن و دسته های ده تایی درست کن سپس جاهای خالی را پر کن.



..... دسته ی ده تایی ..... یکی



..... دسته ی ده تایی ..... یکی



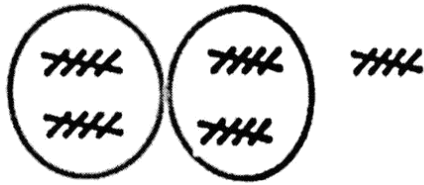
..... دسته ی ده تایی ..... یکی




..... دسته ی ده تایی ..... یکی



۵- جا های خالی را با عدد مناسب کامل کن .



یکی	ده تایی



یکی	ده تایی



یکی	ده تایی

۶- مربع شگفت انگیز را کامل کن .

۹	۱	۸	۵	۶	۳	۲	۷	۴
۷		۶		۲		۳		۸
۴	۲	۳	۷	۱	۸	۹	۵	۶
۲	۶	۵	۱	۸	۴	۷	۹	۳
۸		۱		۳		۴		۲
۳	۴	۹	۶	۷	۲	۱	۸	۵
۱	۳	۲	۸	۹	۶	۵	۴	۷
۶		۴		۵		۸		۱
۵	۸	۷	۳	۴	۱	۶	۲	۹



۷ - خانه‌ها طوری رنگ کن که دو نیمه قرینه هم باشند (با رنگ نارنجی).


۸ - اعداد ۱۰ تا ۱۹ را به ترتیب بنویس.

.....

۹ - جمع و تفریق‌های را روی شکل نشان بده (برای جمع‌ها از ۲ رنگ و برای تفریق‌ها از یک رنگ استفاده کن).

$7 + 1 = \text{----}$	
$8 + 2 = \text{----}$	
$9 - 4 = \text{----}$	
$6 - 5 = \text{----}$	

۱۰ - الگوهای زیر را ادامه بده.

۵	۱۰	۵							
---	----	---	--	--	--	--	--	--	--

ش	شا	س	سا						
---	----	---	----	--	--	--	--	--	--



۱۱- حاصل جمع ها و تفریق های زیر را بدست بیاور .

$9 - 5 =$	$5 - 0 =$	$9 + 0 =$	$2 + 7 =$
$10 - 3 =$	$3 - 3 =$	$8 + 2 =$	$4 + 4 =$
$6 - 1 =$	$4 - 2 =$	$5 + 1 =$	$3 + 5 =$

۱۲- با توجه به شکل ها جدول ها را کامل کن .


<table border="1"> <tr> <td>ده تایی</td> <td>یکی</td> </tr> <tr> <td> </td> <td> </td> </tr> </table>	ده تایی	یکی			<table border="1"> <tr> <td>ده تایی</td> <td>یکی</td> </tr> <tr> <td> </td> <td> </td> </tr> </table>	ده تایی	یکی			<table border="1"> <tr> <td>ده تایی</td> <td>یکی</td> </tr> <tr> <td> </td> <td> </td> </tr> </table>	ده تایی	یکی			<table border="1"> <tr> <td>ده تایی</td> <td>یکی</td> </tr> <tr> <td> </td> <td> </td> </tr> </table>	ده تایی	یکی		
ده تایی	یکی																		
ده تایی	یکی																		
ده تایی	یکی																		
ده تایی	یکی																		

۱۳- عددهای مثل هم را با خط کش به هم وصل کن و به سوال ها پاسخ بده ( هر عدد را با یک رنگ به هم وصل کن ).

تم ۱۶




۱ - تعداد شکل های هر دسته را بشمار . با شکل ها دسته های ده تایی درست کن ، جدول را کامل کن و عدد و چوب خط مربوط به هر دسته را بنویس .






ده تایی	یکی
---------	-----





ده تایی	یکی
---------	-----





ده تایی	یکی
---------	-----

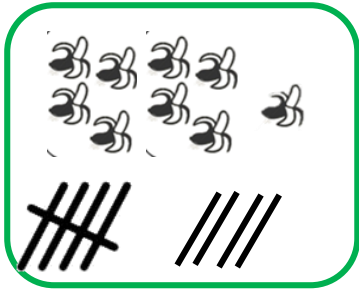


۲- ادامه بده .



پیش دبستانی و دبستان غیر دولتی پسرانه  
**نشاط علم پویا**  
 Neeshat Elm Pooja Elementary School

۱۱	۱۲	۱۳				
----	----	----	--	--	--	--



۳- در هر قسمت دو دسته روی هم چند شکل دارد؟ مانند نمونه با چوب خط هر شکل را بکش و حاصل جمع را بدست بیاور.





$$\boxed{9} + \boxed{5} = \boxed{14}$$




$$\boxed{\phantom{00}} + \boxed{\phantom{00}} = \boxed{\phantom{00}}$$




$$\boxed{\phantom{00}} + \boxed{\phantom{00}} = \boxed{\phantom{00}}$$




$$\boxed{\phantom{00}} + \boxed{\phantom{00}} = \boxed{\phantom{00}}$$



$$\boxed{\phantom{00}} + \boxed{\phantom{00}} = \boxed{\phantom{00}}$$



$$\boxed{\phantom{00}} + \boxed{\phantom{00}} = \boxed{\phantom{00}}$$





۴- جواب جمع و تفریق های زیر را بنویس .

$۶ + ۱ =$	$۸ + ۲ =$	$۲ + ۷ =$	$۸ - ۲ =$	$۵ - ۴ =$	$۸ - ۳ =$
$۵ + ۵ =$	$۳ + ۵ =$	$۴ + ۶ =$	$۴ - ۴ =$	$۵ - ۱ =$	$۵ - ۰ =$
$۳ + ۳ =$	$۴ + ۴ =$	$۲ + ۲ =$	$۲ - ۱ =$	$۷ - ۶ =$	$۹ - ۶ =$
$۱ + ۷ =$	$۴ + ۳ =$	$۴ + ۲ =$	$۹ - ۵ =$	$۱۰ - ۶ =$	$۴ - ۰ =$
$۶ + ۰ =$	$۹ + ۱ =$	$۶ + ۲ =$	$۶ - ۳ =$	$۶ - ۴ =$	$۹ - ۱ =$

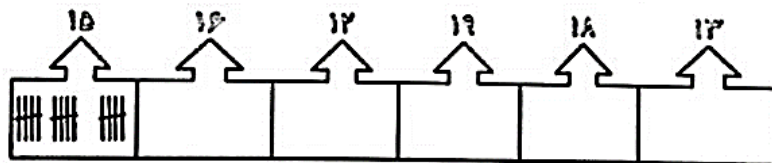
۵- اعداد ۹ تا ۲۰ را به ترتیب بنویس .




۶- جمع های زیر را روی شکل نشان بده از ۲ رنگ استفاده کن .



۸- عدد های زیر را با چوب خط نشان بده .



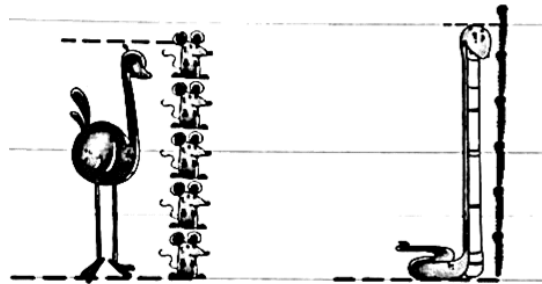

۹- عددهای روی ساعت رو بنویس .



۱۰- مانند نمونه حاصل جمع های زیر را با کمک ۲ رنگ چوب خط به دست بیاور . سپس آن را در جدول

$8 + 6 = \text{---}$		<table border="1" style="display: inline-table; border-collapse: collapse;"> <tr> <td style="padding: 2px;">ده تایی</td> <td style="padding: 2px;">یکی</td> </tr> <tr> <td style="text-align: center; padding: 2px;">۱</td> <td style="text-align: center; padding: 2px;">۴</td> </tr> </table>	ده تایی	یکی	۱	۴	<u>  ۱۴  </u>
ده تایی	یکی						
۱	۴						
$9 + 7 = \text{---}$		<table border="1" style="display: inline-table; border-collapse: collapse;"> <tr> <td style="padding: 2px;">ده تایی</td> <td style="padding: 2px;">یکی</td> </tr> <tr> <td style="height: 20px;"></td> <td style="height: 20px;"></td> </tr> </table>	ده تایی	یکی			<u>          </u>
ده تایی	یکی						
$7 + 5 = \text{---}$		<table border="1" style="display: inline-table; border-collapse: collapse;"> <tr> <td style="padding: 2px;">ده تایی</td> <td style="padding: 2px;">یکی</td> </tr> <tr> <td style="height: 20px;"></td> <td style="height: 20px;"></td> </tr> </table>	ده تایی	یکی			<u>          </u>
ده تایی	یکی						
$8 + 8 = \text{---}$		<table border="1" style="display: inline-table; border-collapse: collapse;"> <tr> <td style="padding: 2px;">ده تایی</td> <td style="padding: 2px;">یکی</td> </tr> <tr> <td style="height: 20px;"></td> <td style="height: 20px;"></td> </tr> </table>	ده تایی	یکی			<u>          </u>
ده تایی	یکی						

۱۱- با توجه به شکل جاهای خالی را کامل کن .



اندازه ی مار از ..... میخ کوتاه تر است .

اندازه ی زرافه از ..... خرگوش کوتاه تر است .

اندازه شترمرغ از ..... موش مواته تر است .



۱۲- با خط کش هر عدد را به شکل خودش وصل کن.

پیش دبستانی و دبستان غیر دولتی پوسیا  
نشاط علم پوسیا  
Nezhat Elm Pousya Elementary School

	۱۰	
	۱۱	
	۱۲	
	۱۳	
	۱۴	
	۱۵	
	۱۶	
	۱۷	
	۱۸	
	۱۹	

تم ۱۷



۱- پاسخ هر قسمت را نوشته و مقایسه کن و علامت < > را انتخاب کن و دور علامت درس خط بکش.



..... + ..... = .....

<  
>

..... - ..... = .....

..... - ..... = .....

<  
>


..... + ..... + ..... = .....

..... + ..... = .....

<  
>

..... + ..... = .....

۲- با توجه به جمع نوشته شده، مربع ها را با رنگ های مختلف رنگ کرده و حاصل را بنویس.



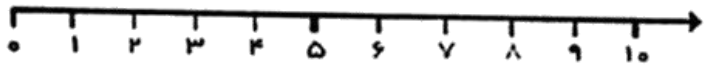
$$۴ + ۳ + ۴ =$$



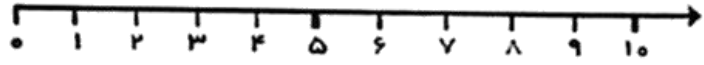
$$۶ + ۲ + ۷ =$$



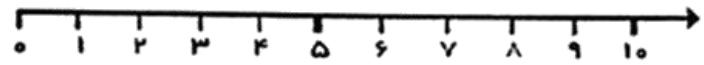
۳- با کمک محور جمع یا تفریق کن .



$$5 + 3 =$$

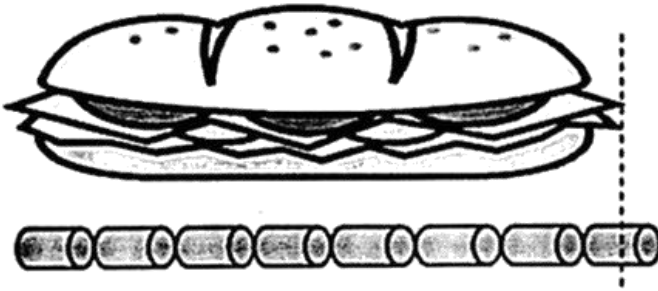


$$8 - 6 =$$



$$1 + 8 =$$

۴- جمله را با نوشتن عدد مناسب کامل کن .

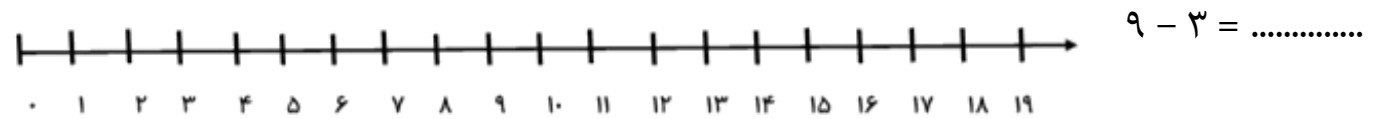
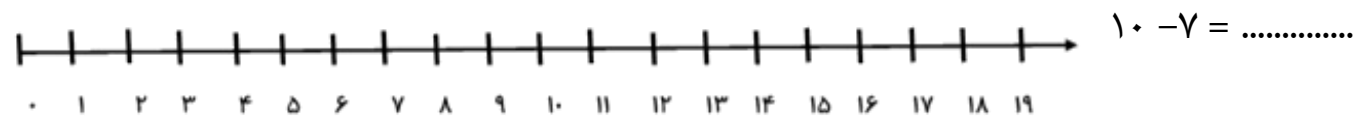
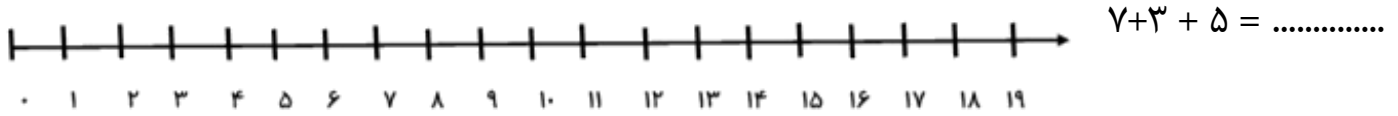
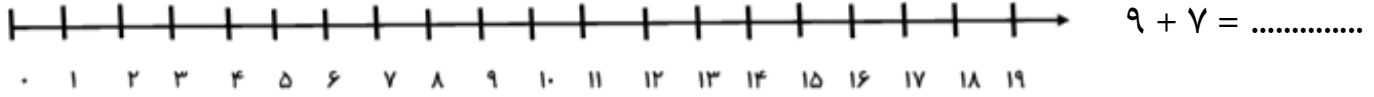


بلندی ساندویچ بین ..... و ..... است.

۶- ابتدا با چوب خط حاصل جمع شکل را پیدا کن ، سپس جمع مربوط به آن را بنویس.



۷- جمع و تفریق های زیر را روی محور نشان بده . سپس جواب آنها را بنویس.



۸- حاصل جمع های زیر را با چوب خط حساب کن و بعد علامت  $< = >$  بگذار.

$2 + 1 + 4 =$ 	$1 + 3 + 3 =$	$4 + 2 + 2 =$	$3 + 3 + 2 =$
$0 + 2 + 3 =$	$2 + 0 + 1 =$	$3 + 6 + 1 =$ 	$2 + 3 + 5 =$

۹- جمله ها را با نوشتن عدد مناسب کامل کن .



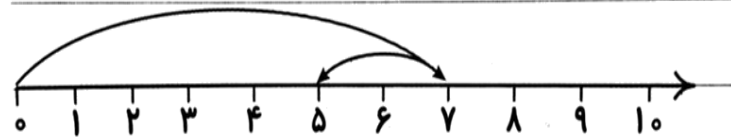
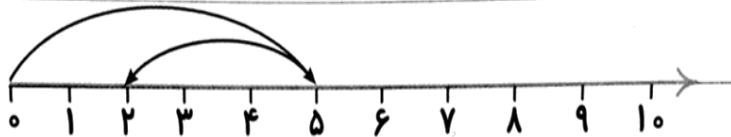
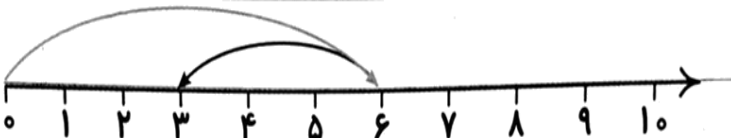
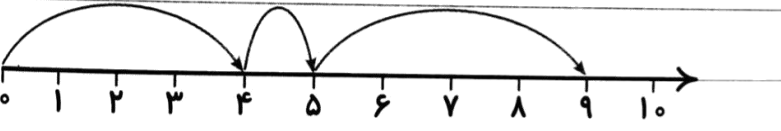
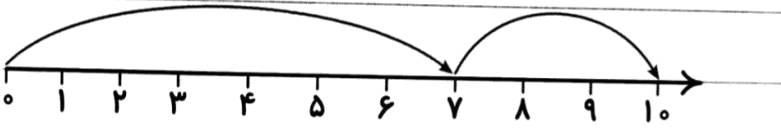
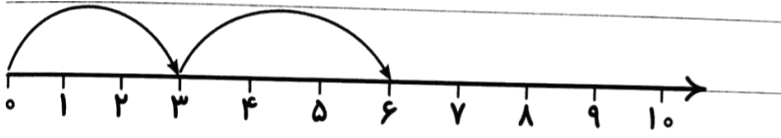
بلندی درخت بین ..... تا ..... کلید است .

بلندی گل بین ..... تا ..... کلید است .

بلندی هویج بین ..... تا ..... کلید است .








۱۰- برای هر محور جمع و تفریق نوشته و جواب دهید.



تم ۱۸



۱- جاهای خالی را با عدد مناسب کامل کن .




				
<input style="width: 40px; height: 30px;" type="text"/>	<input style="width: 40px; height: 30px;" type="text"/>	<input style="width: 40px; height: 30px;" type="text"/>	<input style="width: 40px; height: 30px;" type="text"/>	<input style="width: 40px; height: 30px;" type="text"/>

$3 - 6 \dots - \dots - \dots$   
 $\xrightarrow{+3}$

۲- مانند نمونه نوشتن عدد ها را با عدد و حروف ادامه بده .

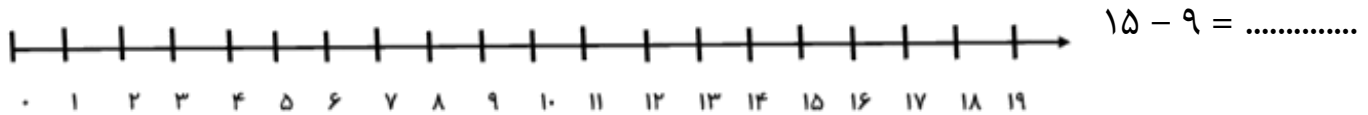
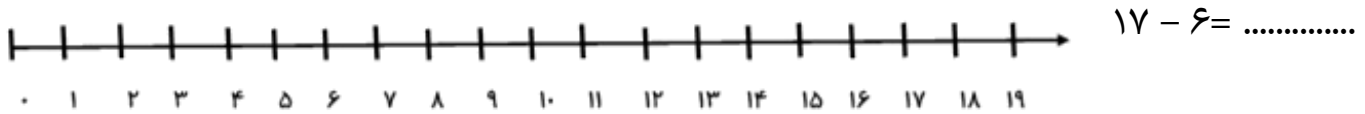
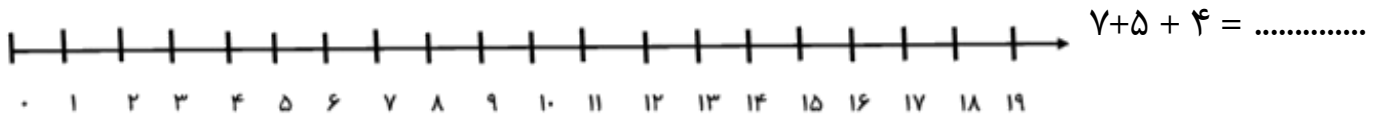
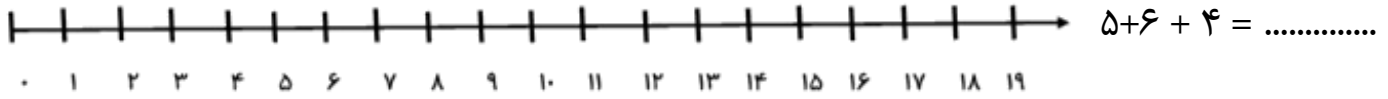
۱۰										۲۰
ده									نوزده	بیست

۳- حاصل جمع های زیر را با کمک چوب خط بدست بیاور . سپس با توجه به جواب جمع جاهای خالی را کامل کن .


														
<table border="1" style="display: inline-table; border-collapse: collapse;"> <tr> <td style="padding: 5px;">یکی</td> <td style="padding: 5px;">ده تایی</td> </tr> <tr> <td style="text-align: center;">---</td> <td style="text-align: center;">---</td> </tr> </table>	یکی	ده تایی	---	---	<table border="1" style="display: inline-table; border-collapse: collapse;"> <tr> <td style="padding: 5px;">یکی</td> <td style="padding: 5px;">ده تایی</td> </tr> <tr> <td style="text-align: center;">---</td> <td style="text-align: center;">---</td> </tr> </table>	یکی	ده تایی	---	---	<table border="1" style="display: inline-table; border-collapse: collapse;"> <tr> <td style="padding: 5px;">یکی</td> <td style="padding: 5px;">ده تایی</td> </tr> <tr> <td style="text-align: center;">---</td> <td style="text-align: center;">---</td> </tr> </table>	یکی	ده تایی	---	---
یکی	ده تایی													
---	---													
یکی	ده تایی													
---	---													
یکی	ده تایی													
---	---													



۴- جمع و تفریق های زیر را روی محور نشان بده . سپس جواب انها را بنویس .



۵- ابتدا عدد های روی محور را بنویس و سپس دو تا دو تا جلو برو.



۶- مربع های شگفت انگیز را کامل کن .

۳	۱	۲	۵		۸	۶	۹	۴
	۹		۶		۱		۸	
۵	۸	۶	۴		۹	۱	۷	۲
۶	۵	۹		۴		۸	۳	۷
			۹	۵	۳			
۱	۲	۳		۸		۵	۴	۹
۲	۷	۴	۳		۵	۹	۱	۸
	۳		۲		۴		۵	
۹	۶	۵	۸		۷	۴	۲	۳

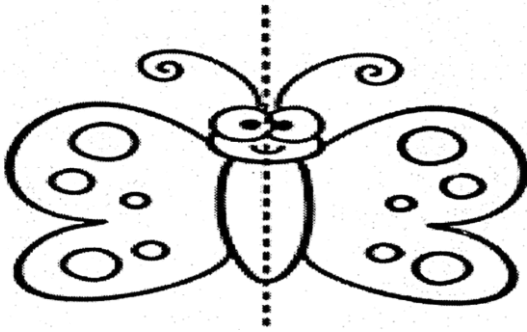


۷- پاسخ جمع ها را با چوب خط بدست بیاور .

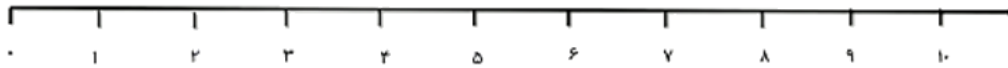
$$۴+۶+۲= \square$$

$$۵+۱۳= \square$$

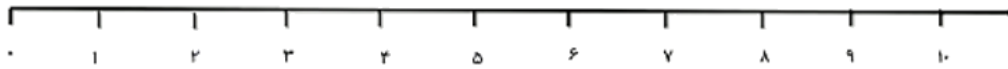
۸- پروانه را طوری زنگ بزن که دو طرف مثل هم باشد.



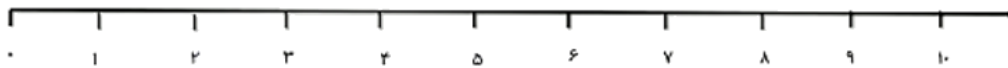
۹- با محور اعداد ، جمع و تفریق کن .



$$۵ + ۳ =$$



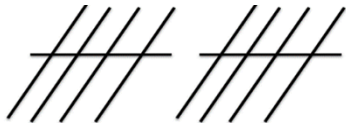
$$۲ + ۳ + ۴ =$$



$$۹ - ۳ =$$



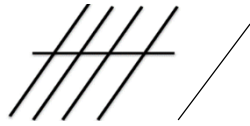
۱۰ - برای چوب خط در جدول و خارج آن عدد بنویس .



یکی ده تایی

با رقم .....

با



حروف .....

۹ - جاهای خالی را به طور مناسب بنویس .

هشت		دوازده		نوزده		یازده	
	۶		۱۳		۱۷		۱۵

۱۰ - علامت  $< = >$  بنویس .

$$۸ \bigcirc ۱۴$$

$$۱۹ \bigcirc ۱۸$$

$$۵ \bigcirc ۷$$

$$۱۲ \bigcirc ۱۶$$

۱۱ - جواب جمع و تفریق ها را بنویس .

$$۱۰ - ۴ = \square$$

$$۵ + ۴ = \square$$

$$۱۰ + \square = ۱۶$$

$$۵ + \square = ۱۰$$

$$۱۰ + ۳ = \square$$

$$۸ - ۸ = \square$$



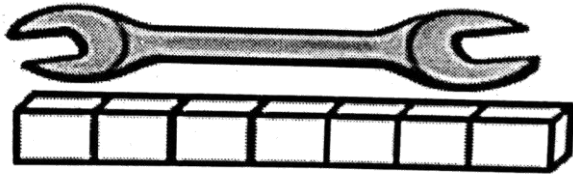
۱۲- دنباله ی اعداد نوشته شده را بنویس.

۲	۴	۶								
---	---	---	--	--	--	--	--	--	--	--

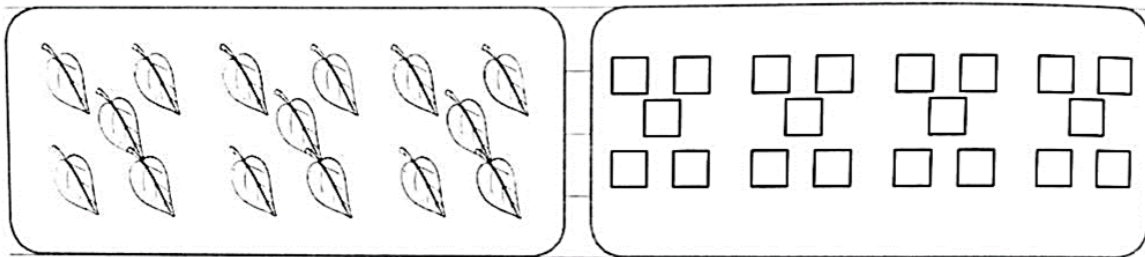
۳	۶	۹			
---	---	---	--	--	--

۴	۸	۱۲		
---	---	----	--	--

۱۳- بلندی آچار بین ..... تا ..... چینه است .

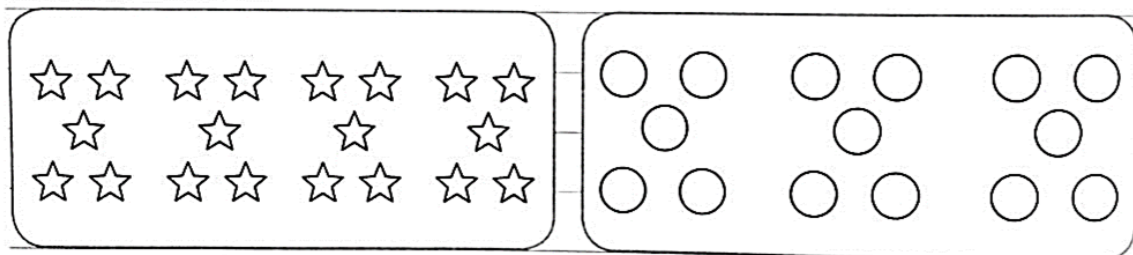


۱۴- با استفاده از دو رنگ مختلف جواب جمع ها را پیدا کن :



$$۸ + ۵ = \square$$

$$۹ + ۹ = \square$$





$$۱۲ + ۵ = \square$$



$$۱۱ + ۳ = \square$$



تم ۱۹



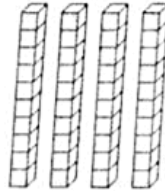
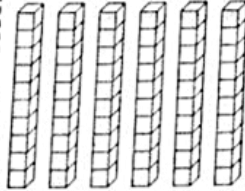
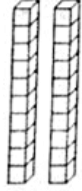
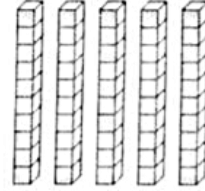
۱- در هر قسمت تعداد دسته های ده تایی را بشمار و مانند نمونه جاهای خالی را کامل کن.

	ده تایی	یکی		ده تایی	یکی
	۱	۰			
		۱۰			

	ده تایی	یکی		ده تایی	یکی

	ده تایی	یکی		ده تایی	یکی

۲- هر عدد را به دسته ی مناسب آن وصل کن.

			
○	○	○	○

۲۰

۶۰

۵۰

۴۰



۳- عدد های زیر را ادامه بده .

۰	۵	۱۰								
---	---	----	--	--	--	--	--	--	--	--

۱۰	۲۰	۳۰								
----	----	----	--	--	--	--	--	--	--	--


۴- جاهای خالی را به طور مناسب کامل کن .

	<p>--- ده تایی و --- یکی می شود ---</p>	<table border="1"> <tr> <td>ده تایی</td> <td>یکی</td> </tr> <tr> <td>---</td> <td>---</td> </tr> </table>	ده تایی	یکی	---	---	<p>با عدد: ----- با حرفه: -----</p>
ده تایی	یکی						
---	---						
	<p>۶ ده تایی و ۸ یکی می شود -----</p>	<table border="1"> <tr> <td>ده تایی</td> <td>یکی</td> </tr> <tr> <td>---</td> <td>---</td> </tr> </table>	ده تایی	یکی	---	---	<p>با عدد: ----- با حرفه: -----</p>
ده تایی	یکی						
---	---						

۴- جواب جمع و تفریق های زیر را بدست بیاور .

$50 + 10 = \text{---}$	$50 + 40 = \text{---}$	$20 + 60 = \text{---}$	$70 - 10 = \text{---}$	$80 - 50 = \text{---}$
------------------------	------------------------	------------------------	------------------------	------------------------

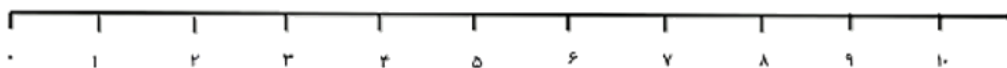
۵- هر مسئله را با دقت بخوان ، روی محور نشان بده ، سپس عبارت آن را بنویس و حاصل را به دست بیاور .



۶ لاک پشت در برکه ای شنا می کردند.

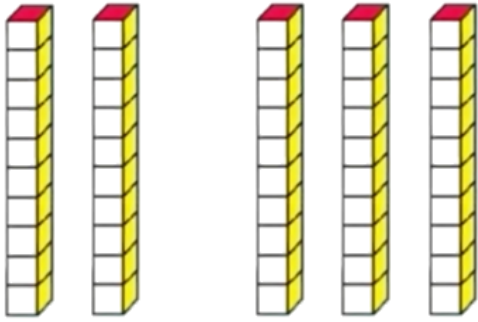
۳ لاک پشت دیگر هم داخل برکه رفتند .

حالا چند لاک پشت در برکه هستند؟

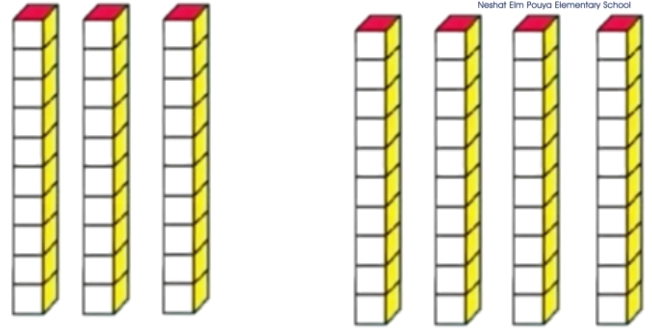





۶- در هر قسمت برای شکل های زیر جمع بنویس.



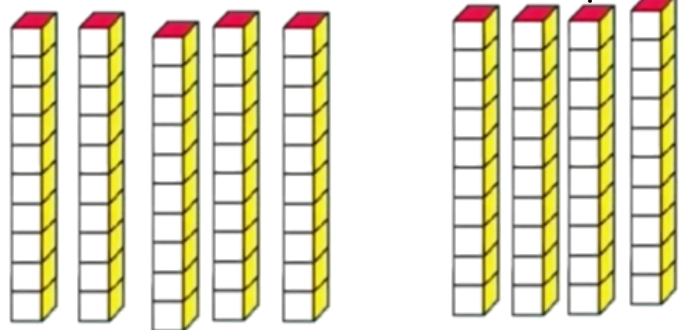
..... + ..... = .....



..... + ..... = .....



..... + ..... = .....



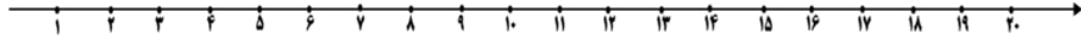
..... + ..... = .....

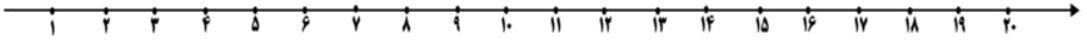
۷- برای هر عدد شکل بکش و جدول را کامل کن.

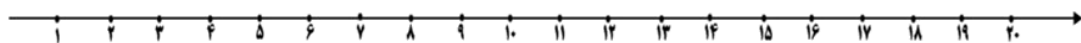
۳۰		۴۰		۲۰	
دهتایی	یکی	دهتایی	یکی	دهتایی	یکی



۸- جمع و تفریق های زیر را روی محور نشان بده . سپس جواب آنها را بنویس.

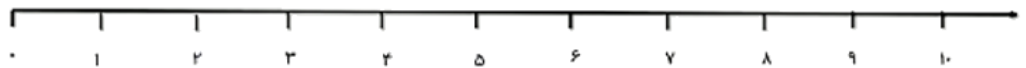

  $10 + 5 + 5 = \dots\dots\dots$

  $5 + 5 + 5 = \dots\dots\dots$

  $20 - 10 = \dots\dots\dots$



۹- جواب مسئله را با کمک محور ، شکل و راه حل عددی به دست بیاورید.

۱۲ شمع روشن بود ، ۵ شمع خاموش شد ، چند شمع روشن مانده است ؟  
.....



۱۰ نفر در اتوبوس نشسته اند. در ایستگاه اول ۷ نفر پیاده شدند .



حالا چند نفر در اتوبوس نشسته اند؟



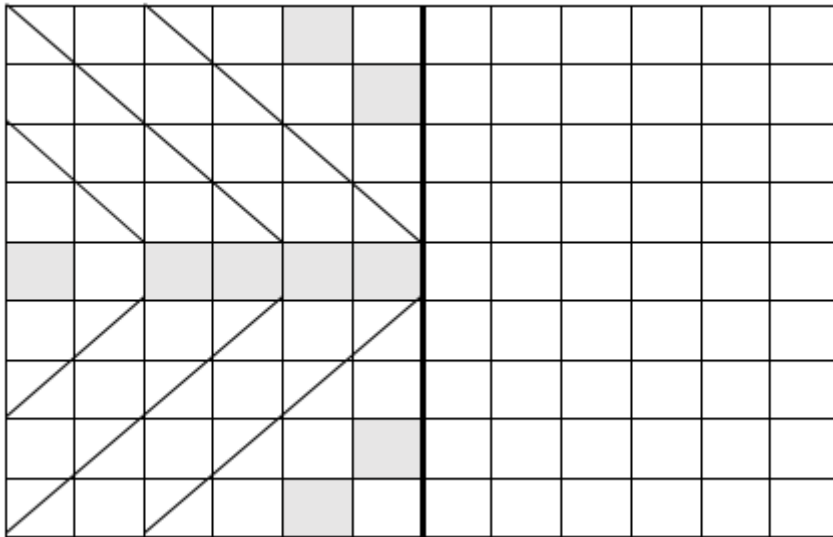


۵ حلزون روی شاخه ای بودند ، ۳ تای آن ها در صدف خود رفتند.

چند حلزون بیرون از صدف هستند؟



۱۰- جدول را طوری کامل کن که دو طرف آن مثل هم باشد.(با رنگ صورتی)



۱۱- بین هر دو عدد علامت مناسب  $< = >$  قرار بده .

۵۰ ○ ۳۰

۴۰ ○ ۴۰

۱۰ ○ ۳۰

۴۰ ○ ۹۰

۸۰ ○ ۷۰

۶۰ ○ ۲۰

۱۲۲- جواب هر عبارت را بنویس.

$۶۰ - ۳۰ =$

$۸۰ - ۲۰ =$

$۴۰ + ۲۰ =$

$۳۰ + ۲۰ =$




۱۳- مربع های شگفت انگیز را کامل کن.

	۳	۵	۸	۴	۶	۲	۱	
۹	۸	۴	۳		۱	۵	۷	۶
۲	۶	۱	۷		۹	۳	۴	۸
۱	۷	۲		۳		۸	۶	۵
۴			۱	۸	۵			۲
۸	۵	۳		۷		۱	۹	۴
۳	۴	۷	۲		۸	۹	۵	۱
۵	۲	۹	۴		۳	۶	۸	۷
	۱	۸	۵	۹	۷	۴	۲	

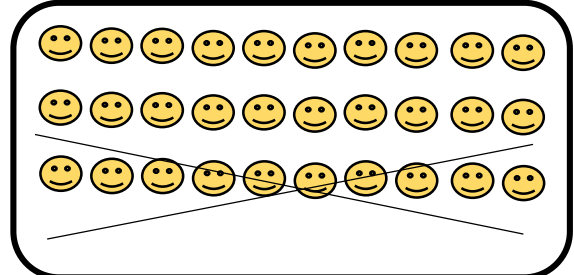
تم ۲۰



۱- برای هر شکل عبارت جمع یا تفریق و علامت مناسب را انتخاب کن .

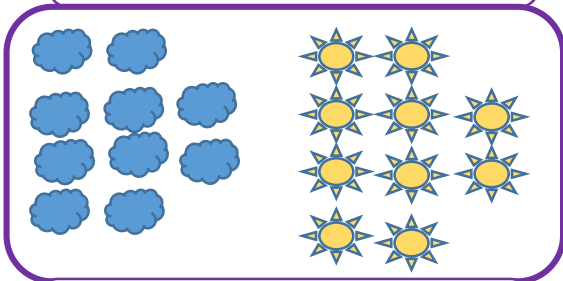


>  
=  
<




... + ... = ...

... - ... = ...



>  
=  
<



... + ... = ...

... - ... = ...

۲- در جاهای خالی عدد مناسب بنویس و مانند نمونه جمله ها را کامل کن و بخوان .

ده تایی	یکی
۱	۹

۱ ده تایی یعنی .....  
۱۰ و ۹ می شود .....  
.....

ده تایی	یکی
۴	۲

۴ ده تایی یعنی .....  
۴۰ و ۲ می شود .....  
۴۲

ده تایی	یکی
۶	۳

۶ ده تایی یعنی .....  
۶۰ و ۳ می شود .....  
.....

ده تایی	یکی
۸	۸

۸ ده تایی یعنی .....  
۸۰ و ۸ می شود .....  
.....



۳- حاصل جمع و تفریق های زیر را به صورت ذهنی پیدا کن و بنویس.

$$5 - 5 = \dots\dots\dots$$

$$20 + 5 - 5 = \dots\dots\dots$$

$$10 + 25 - 5 = \dots\dots\dots$$

$$10 + 10 - 10 = \dots\dots\dots$$

۴- عدد های زیر ادامه بده .

۲۰	۲۵	۳۰							
----	----	----	--	--	--	--	--	--	--

+۵

۱۶	۲۶	۳۶							
----	----	----	--	--	--	--	--	--	--

+۱۰

۵۲	۵۳	۵۴							
----	----	----	--	--	--	--	--	--	--

۷۴	۷۵	۷۶							
----	----	----	--	--	--	--	--	--	--

۵- جاهای خالی را به طور مناسب کامل کن .

	<p>ده تایی و --- یکی می شود ---</p>	<p>با عدد: -----</p>	<p>ده تایی   یکی</p>	<p>-----</p>
		<p>با حرف: -----</p>	<p>-----</p>	<p>-----</p>

	<p>ده تایی و ۸ یکی می شود -----</p>	<p>با عدد: -----</p>	<p>ده تایی   یکی</p>	<p>-----</p>
		<p>با حرف: -----</p>	<p>-----</p>	<p>-----</p>



۶- جواب جمع و تفریق های زیر را بدست بیاور .

$$20 + 5 = \text{----}$$

$$10 + 40 + 5 = \text{----}$$

$$70 - 40 = \text{----}$$

$$50 - 50 = \text{----}$$

$$10 + 10 + 10 = \text{----}$$

$$80 - 10 = \text{----}$$

$$10 + 10 + 10 + 5 = \text{----}$$

$$90 - 20 = \text{----}$$

$$10 + 10 + 10 + 5 + 5 + 5 + 5 = \text{----}$$

$$60 - 5 = \text{----}$$




۷- برای هر مسئله شکل بکش و جواب آن را بدست بیاور . (راه حل عددی)


۵ بسته ده تایی بستنی در یخچال بود . ۷ بستنی دیگر در یخچال قرار دادیم . حالا چند بستنی در یخچال است.

زهرا ۴ بسته ی ده تایی مداد داشت . مادرش دو بسته ده تایی دیگر به او داد . حالا زهرا چند مداد دارد ؟

۸- جمع و تفریق های زیر را روی محور نشان بده . سپس جواب آنها را بنویس .



$$5 + 5 + 5 =$$



$$15 - 9 =$$



۳	۶		۷		۲		۱	۵
۲	۴	۵	۳		۱	۷	۶	۸
۹	۷	۱	۶	۵	۸	۲	۴	۳
۷	۹	۲	۴		۶	۵	۳	۱
		۶				۴		
۵	۳	۴	۹		۷	۸	۲	۶
۶	۵	۷	۱	۲	۹	۳	۸	۴
۴	۲	۹	۸		۳	۱	۵	۷
۱	۸		۵		۴		۹	۲

۱۰- سپس جدول سمت چپ را طوری رنگ کن که دو طرف آن مثل هم باشد(با رنگ آبی).


تم ۲۱



۱ - عدد ها و شکل ها را با توجه به الگو ادامه بده .

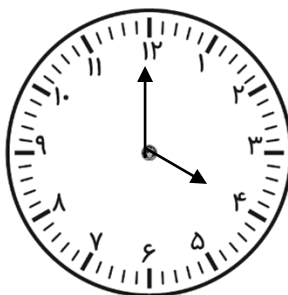
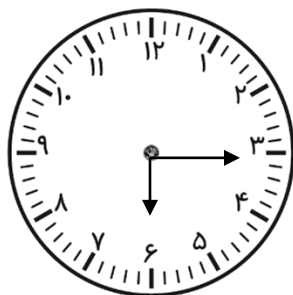
$$4 - 6 - 8 - \dots - \dots - \dots - \dots - \dots$$

→ →  
+ ۲

$$25 - 30 - 35 - \dots - \dots - \dots - \dots - \dots$$

→ →  
+ 5

۲ - زمانی که ساعت ها نشان می دهند را بنویس .



ساعت بین ..... و ..... است.

ساعت ..... است .

۳ - با چوب خط ( چوب خط های متصل به هم ) نشان بده .

$8 + 5 + 6 = \dots$

$4 + 9 + 3 = \dots$

$18 - 9 = \dots$

$2 + 4 + 12 = \dots$





۶ - جاهای خالی را با اعداد مناسب کامل کن .

$$\begin{array}{r} 55-60-.....-.....-.....-.....-.....-..... \\ \longrightarrow \\ +5 \end{array}$$

$$\begin{array}{r} 10-20-30-.....-.....-.....-.....-.....-..... \\ \longrightarrow \\ +10 \end{array}$$

$$32-.....-.....-35-36-.....-.....-.....-.....$$

$$12-13-.....-.....-.....-.....-.....-.....-.....$$

۷ - جمع های زیر را با چوب خط حساب کن و سپس با توجه به جواب جمع ، جاهای خالی را کامل کن (چوب خط متصل به هم) .

$3+4+12=.....$			با عدد : ..... با حروف : .....
----------------	--	--	-----------------------------------

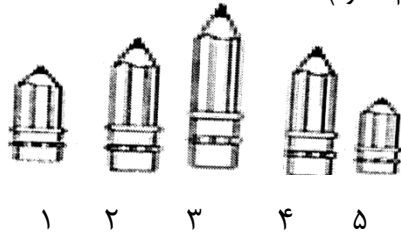
$7+6+8=.....$			با عدد : ..... با حروف : .....
---------------	--	--	-----------------------------------

۸ - جواب جمع و تفریق های زیر را بدست بیاورید.

$40+20=-----$	$10+5+50=-----$	$70-10=-----$	$20-20=-----$
$5+5+20=-----$		$60-10=-----$	
$20+20+5+5=-----$		$50-20=-----$	
$5+5+3+2+4+1+30=-----$		$60-50=-----$	



۹ - جاهای خالی را با توجه به شکل کامل کن . (کوتاه تر - بلندتر - هم اندازه)



مداد شماره ۵ ..... از مداد شماره ۲ است .


مداد شماره ۱ ..... بلندترین مداد است .

مداد شماره ۲ با مداد شماره ۱ ..... هم اندازه است .

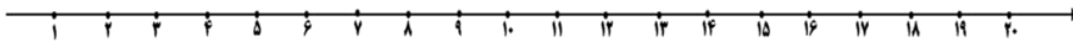
مداد شماره ۱ ..... کوتاهترین مداد است .

۱۰ - جواب هر مسئله را با کمک شکل یا چوب خط به دست بیاور و سپس روی محور نشان بده .

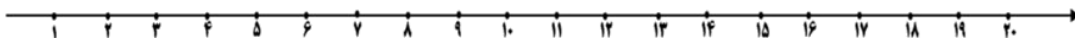
۸ مسافر در اتوبوس بودند . ۶ مسافر دیگر هم سوار شدند . در ایستگاه ۵ مسافر دیگر هم سوار شدند . حالا چند مسافر در اتوبوس است ؟ .....



۵ ماهی در حوض بود . علی ۵ ماهی دیگر در حوض انداخت . حسین هم ۶ ماهی دیگر در حوض انداخت . حالا چند ماهی در حوض است ؟ .....



۱۴ شکلات در جعبه بود . بچه ها ۹ تا از شکلات ها را خوردند . چند شکلات در جعبه باقی مانده است ؟ .....





۱۱- مانند نمونه کامل کن .

پیش دبستانی و دبستان غیر دولتی پویا  
نشاط علم پویا  
Nezhat Elm Pouya Elementary School

۷ هفت ..... سه یک

۸ ..... پنج شش

..... دو ده ۹





۳- حاصل جمع های زیر را بنویس و سپس با توجه به جواب جمع جاهای خالی را کامل کن .

$$5+5+5+10 = \dots\dots$$

$$5+5+10+20 = \dots\dots$$

$$5+5+30+10 = \dots\dots$$

با عدد : .....

با عدد : .....

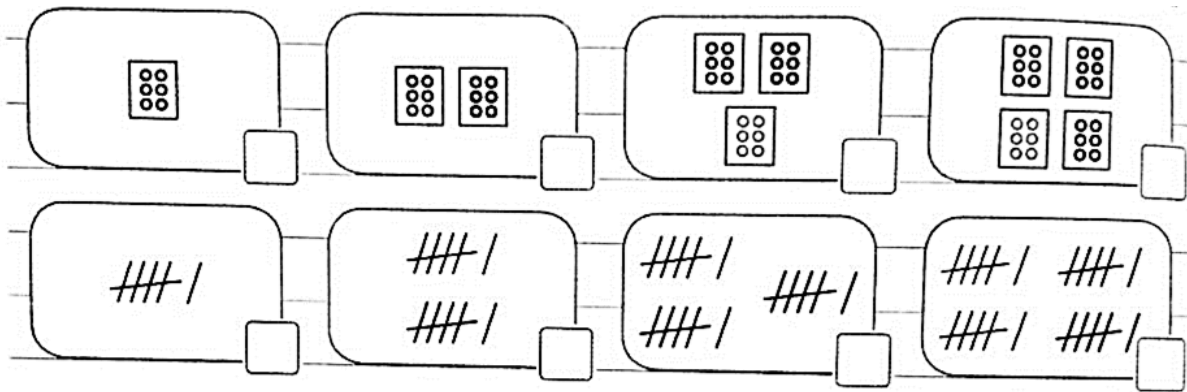
با عدد : .....

با حروف : .....

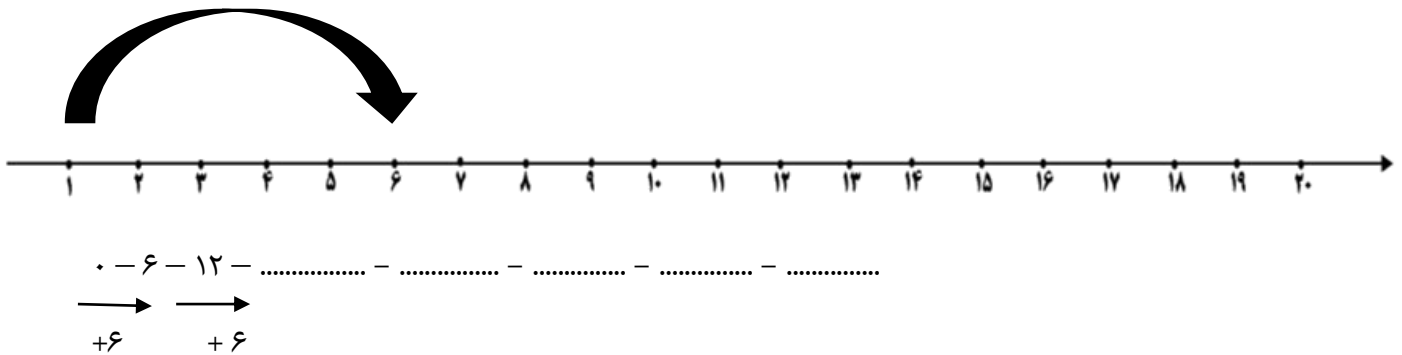
با حروف : .....

با حروف : .....

۴- هر شکل را بشمار و در جاهای خالی قرار بده .



۵- محور را کامل کن و الگوی عددی را با کمک محور کامل کن .





۶- جواب تفریق های زیر را بدست بیاور .

پیش دبستانی و دبستان غیر دولتی پویا  
**نشاط علم پویا**  
 Nezhat Elm Pouya Elementary School

تعداد: ۱۰

$$35 - 5 = \dots$$

$$55 - 5 = \dots$$

$$40 - 20 = \dots$$


$$30 - 20 = \dots$$

$$25 - 5 = \dots$$

$$45 - 5 = \dots$$

$$20 - 10 = \dots$$

$$50 - 10 = \dots$$



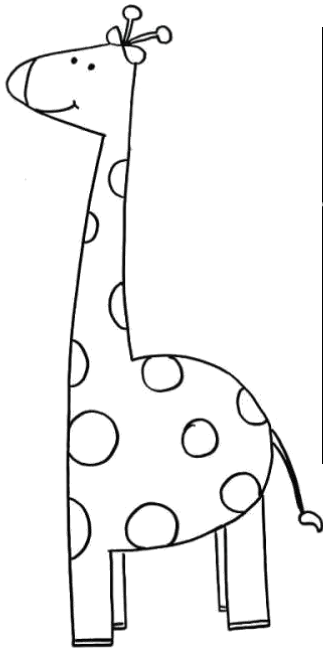
۷- جاهای خالی را با توجه به شکل کامل کن (کوتاه تر - بلندتر - هم اندازه).

شمع شماره ۱ ..... شمع شماره ۲ است .

شمع شماره ۳ ..... بلندترین شمع است .

شمع شماره ۴ ..... کوتاه ترین شمع است .

۸- در جدول زیر با مداد نارنجی ۶ تا ۶ / با مداد سبز ۷ تا ۷ تا بشمار و رنگ کن اعداد خانه هایی را که سبز شده اند را بنویس .



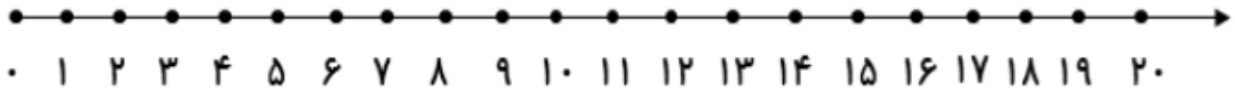
۱	۲	۳	۴	۵	۶	۷	۸	۹	۱۰
۱۱	۱۲	۱۳	۱۴	۱۵	۱۶	۱۷	۱۸	۱۸	۲۰
۲۱	۲۲	۲۳	۲۴	۲۵	۲۶	۲۷	۲۸	۲۹	۳۰
۳۱	۳۲	۳۳	۳۴	۳۵	۳۶	۳۷	۳۸	۳۹	۴۰
۴۱	۴۲	۴۳	۴۴	۴۵	۴۶	۴۷	۴۸	۴۹	۵۰

.....	.....
.....	.....
.....	.....
.....	.....

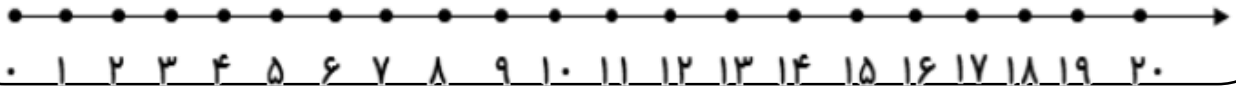


۹- جواب هر مسئله را با کمک شکل بدست بیاور و سپس روی محور نشان بده .

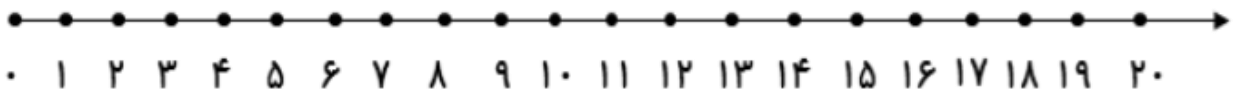
۱۵ تا فرشته در اتاق بودند . ۵ فرشته دیگر هم آمدند . ۷ تا از فرشته ها به آسمان رفتند . حالا چند فرشته در اتاق هستند  
.....؟



۱۶ شکلات در مغازه بود . مریم ۷ شکلات خرید . مینا هم ۵ شکلات خرید . چند شکلات دیگر در مغازه باقی ماند ؟

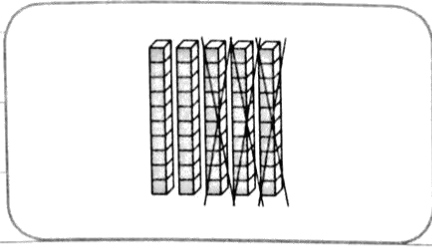


۱۷ دوچرخه به مسابقه آمده بود . ۹ دوچرخه پنچر شد . حالا چند دوچرخه می تواند در مسابقه شرکت کند ؟

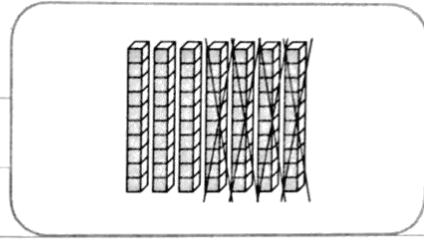




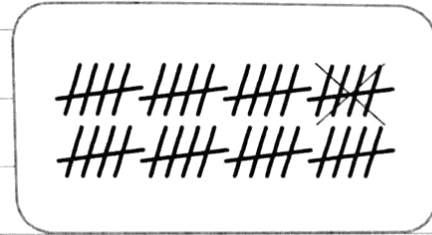
۱۰- برای هر شکل حاصل تفریق ها را بنویسید.



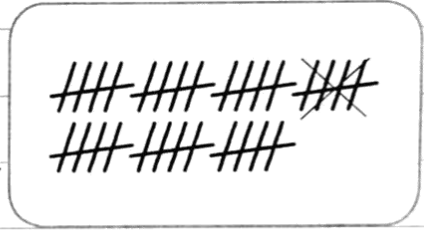
$$50 - 30 = \square$$




$$70 - 40 = \square$$




$$40 - 5 = \square$$



$$35 - 5 = \square$$



$$60 - 50 = \square$$



$$90 - 30 = \square$$

۱۱- به عدد یا به حروف بنویس.

چهل و شش  
.....

.....  
۸۳

سی و هفت  
.....

.....  
۲۹

هفتاد و یک  
.....

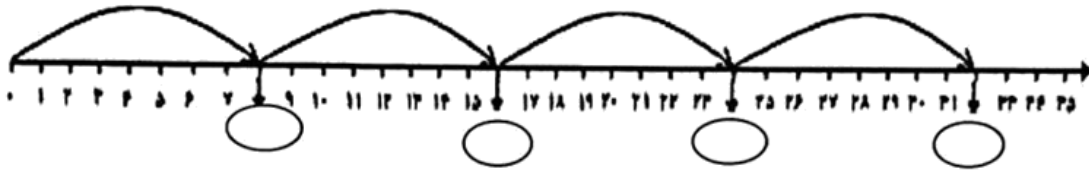
.....  
۶۴







۶- جاهای خالی را کامل کن ، سپس به سوال پایین با کمک محور جواب بده .



$$۱۰+۱۰+۱+۹=$$

۷- جمع و تفریق های زیر را مانند نمونه انجام بده .

$$۲۰+۲۰+۱۰=$$

$$۷+۳+۵+۵+۴=$$

$$۵+۵+۱۰+۱۰-۱۰=$$

$$۱۰+۱۰+۵+۵+۵=$$

$$۱۰+۲۰+۵-۵=$$

$$۲۰+۲۰+۸+۲=$$

$$۲۰+۱۰+۱۰-۵=$$

$$۴+۶+۵-۵=$$

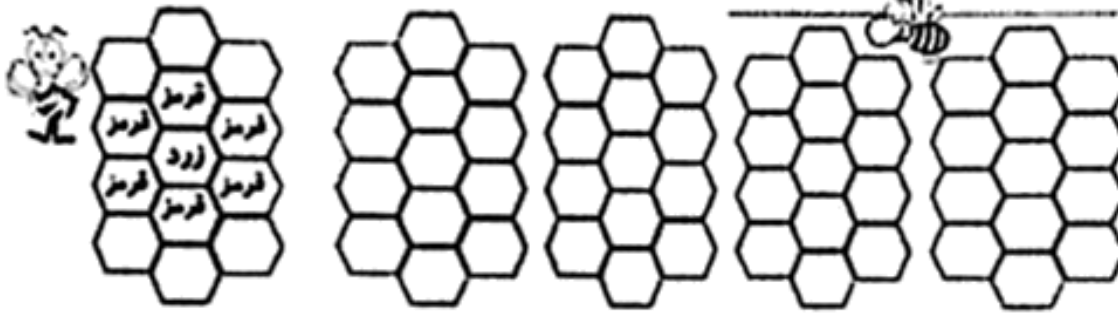
۸- عددهای مثل هم را با یک رنگ بهم وصل کن .

۹۴	۶۳	۷۹	۴۶	۵۷	۸۵
هفتاد و نه	چهل و شش	پنجاه و هفت	نود و چهار	هشتاد و پنج	شصت و سه

۹- جاهای خالی را کامل کن .

.....	بیست و یک	.....	چهل و هشت	.....	هشتاد و نه
۱۶	.....	۵۶	.....	۹۱	.....


۱۰ - مانند نمونه رنگ بزن .



۱۱ - ۹ تا ۹ تا بشمار و در جاهای خالی عدد مناسب بنویس .

♦	۹			۳۶						۹۰
---	---	--	--	----	--	--	--	--	--	----

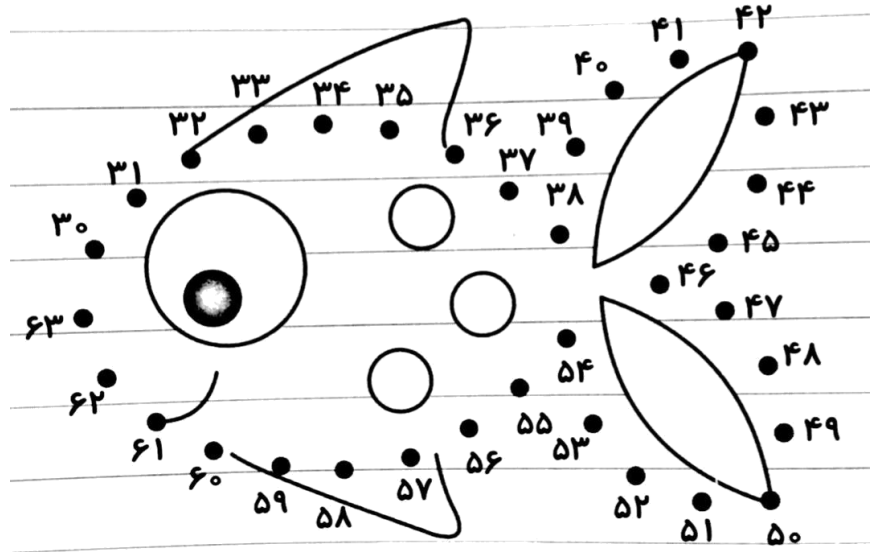
۱۲- در جدول زیر با مداد صورتی ۸ تا ۸ تا ، با مداد آبی ۹ تا ۹ تا بشمار و رنگ بزن . کدام خانه را دو بار رنگ زدی آن را داخل بادکنک بنویس .



۱	۲	۳	۴	۵	۶	۷	۸	۹	۱۰
۱۱	۱۲	۱۳	۱۴	۱۵	۱۶	۱۷	۱۸	۱۸	۲۰
۲۱	۲۲	۲۳	۲۴	۲۵	۲۶	۲۷	۲۸	۲۹	۳۰
۳۱	۳۲	۳۳	۳۴	۳۵	۳۶	۳۷	۳۸	۳۹	۴۰
۴۱	۴۲	۴۳	۴۴	۴۵	۴۶	۴۷	۴۸	۴۹	۵۰
۵۱	۵۲	۵۳	۵۴	۵۵	۵۶	۵۷	۵۸	۵۹	۶۰
۶۱	۶۲	۶۳	۶۴	۶۵	۶۶	۶۷	۶۸	۶۹	۷۰
۷۱	۷۲	۷۳	۷۴	۷۵	۷۶	۷۷	۷۸	۷۹	۸۰



۱۳- از کم‌ترین عدد شروع کن ، عدد ها را به ترتیب به هم وصل کن و سپس شکل را رنگ کن.











۷- ساعت چند است.



ساعت ..... است ساعت بین ..... و ..... است ساعت ..... است ساعت بین ..... و ..... است


۸- مسئله های زیر را با شکل و راه حل عددی بدست بیاور .



۹ کیوی و ۸ پرتقال در ظرف بود .

مهمان ها ۶ میوه را خوردند .

چند میوه در ظرف باقی مانده است ؟ .....




۵ ماشین پژو و ۷ ماشین پراید در پارکینگ پارک بودند .

۴ ماشین از پارکینگ خارج شدند .


چند ماشین باقی ماند ؟ .....



۹- با سلیقه ی خودت طوری رنگ آمیزی کن که قرینه ی هم باشند .



۱۰- در جدول زیر از ۹ تا ۶۰ را به ترتیب بنویس .





۱۱- مسئله‌ها را با استفاده از چوب خط، مهره و چیزهای دیگر حل کن. سپس جمله‌ها را کامل کن.

• باغبانی ۸ ردیف گل سفید و ۶ ردیف گل صورتی کاشت. او ۹ گل را چید و فروخت. حالا چند گل دارد؟

او ..... گل کاشته است. .... + ..... = .....

..... گل مانده است. .... - ..... = .....

• در یک کارخانه ۵ جعبه دستمال کاغذی و ۹ جعبه دستمال سفره تولید شده است. اگر امروز ۷ جعبه از دستمال‌ها

فروخته شود، چند جعبه دستمال در این کارخانه باقی مانده است؟

..... دستمال تولید شده ..... + ..... = .....

..... دستمال باقی مانده ..... - ..... = .....

• مادر زهرا ۷ دکمه ی سبز و ۵ دکمه ی زرد دارد. اگر او ۹ دکمه را به لباس زهرا بدوزد، حالا چند دکمه دارد؟

او ..... دکمه دارد. .... + ..... = .....

..... دکمه باقی می ماند. .... - ..... = .....

• آرش در مسابقه ی پرتاب دارت باید ۱۹ امتیاز بگیرد تا برنده شود. او در مرحله ی اول ۷ امتیاز و در مرحله ی دوم

۶ امتیاز گرفت. او باید چند امتیاز دیگر بگیرد تا برنده شود؟

آرش ..... امتیاز گرفته ..... + ..... = .....

..... امتیاز دیگر باید بگیرد ..... - ..... = .....

۱۱- مانند نمونه انجام بده.



کمی به ساعت

۶

مانده است.



کمی به ساعت

مانده است.



ساعت از

گذشته است.



ساعت از

گذشته است.

تم ۲۰



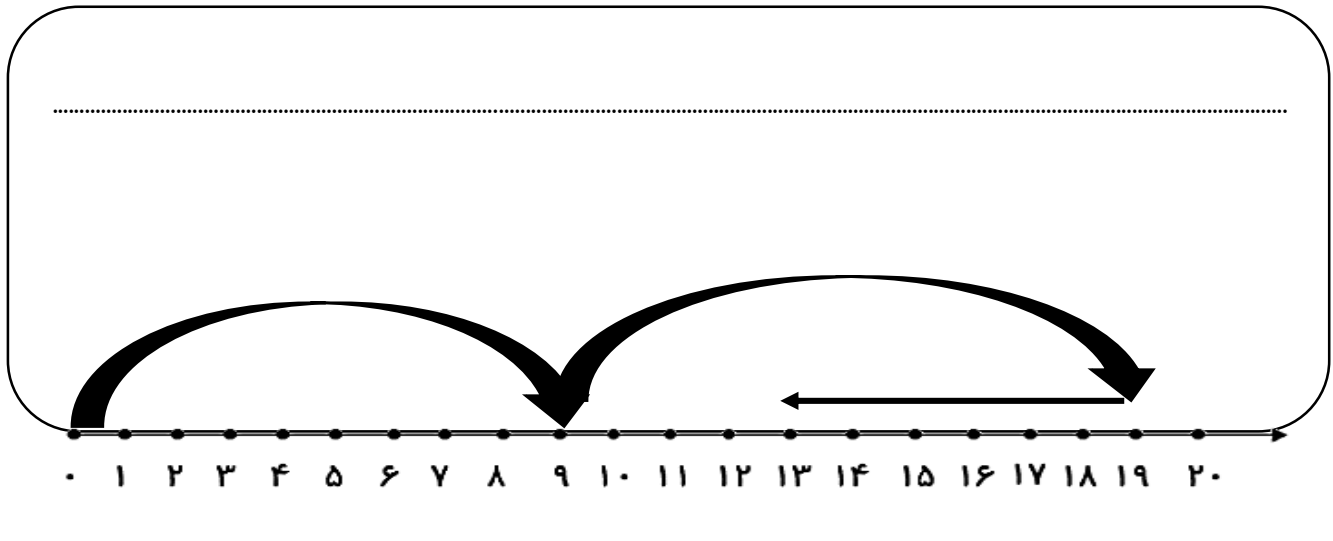
۱ - جاهای خالی را با عدد و حروف بنویس .

۱۹	.....	۱۰۰	.....	۲۱	.....	۸۳
.....	نود و سه	.....	چهل و نه	.....	دوازده	.....

۷۸ - ۸۰ - ۸۲ - ..... - ..... - ..... - ..... - ..... - ..... - .....

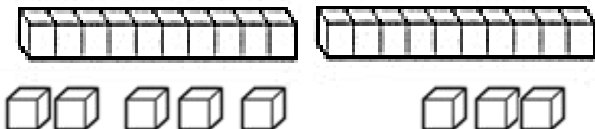
۵۵ - ۵۶ - ۵۷ - ..... - ..... - ..... - ..... - ..... - ..... - .....

۲ - برای محور یک مسئله بنویس و آن را حل کن .



۳ - مسئله را با توجه به شکل حل کن . (راه حل عددی)

مادر علی ۲۸ کاموا داشت . او با ۷ کاموا کلاه بافت . با ۷ کاموای دیگر شال گردن بافت . چند کاموا برای او باقی مانده است ؟





۴ - با توجه به اعداد جاهای خالی را کامل کن .

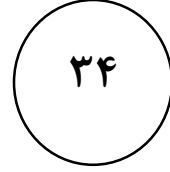
پیش دبستانی و دبستان غیر دولتی پویا  
نشاط علم پویا  
Nezhat Elm Pouya Elementary School

..... ده تایی و ..... یکی می شود



..... با حروف:

..... ده تایی و ..... یکی می شود




..... با حروف:

..... ده تایی و ..... یکی می شود




..... با حروف:

..... ده تایی و ..... یکی می شود



..... با حروف:

۹ - به شکل با دقت نگاه کن و جدول را کامل کن . سپس شکل ها را به سلیقه ی خودت رنگ کن .



تعداد دایره ها ..... تعداد مستطیل ها .....

تعداد مربع ها : ..... تعداد مربع ها + تعداد دایره ها : .....

تعداد مثلث ها : ..... تعداد مثلث ها + تعداد مستطیل ها : .....



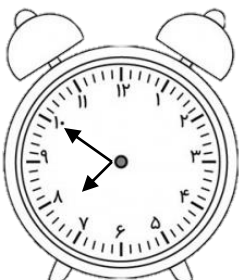
۵ - هر جمله را به ساعت مربوط خود وصل کن .

بین ساعت ۱ و ۲ بعد از ظهر ناهار خوردم..

ساعت کمی از ۹ گذشته شروع به درس خواندن کردم .

کمی مانده به ساعت ۸ صبحانه خوردم .

روز جمعه ساعت ۷ از خواب بیدار شدم .





۶- جاهای خالی را با کلمه ی سنگین تر یا سبک تر کامل کن .

۱- مینا ۲۸ کیلو و مینو ۳۲ کیلو وزن دارند .

مینا از مینو ..... است . مینو از مینا ..... است .

۲- سیب از هندوانه ..... است . ۳- خرس از خرگوش ..... است .

۷- مسئله های زیر را با کشیدن چوب خط یا شکل حل کن .

نیکو ۱۱ مهره ی رنگی داشت . ۷ تا مهره ی صورتی هم خرید . حالا نیکو چند مهره دارد ؟

مهره دارد . ..... = ..... + .....

نیکان ۱۲ سیب زرد و ۵ سیب قرمز از درخت باغ عمو حسن چید . تعداد سیب های زرد چند تا بیشتر از تعداد سیب های قرمز است ؟

سیب زرد بیشتر است . ..... = ..... - .....

۸- پاسخ جمع و تفریق ها را بدست بیاور و علامت  $< = >$  بگذار .

$$90 - 20 \quad \bigcirc \quad 50 + 20$$

$$70 + 10 \quad \bigcirc \quad 90 - 30$$

$$20 + 50 \quad \bigcirc \quad 70 - 30$$

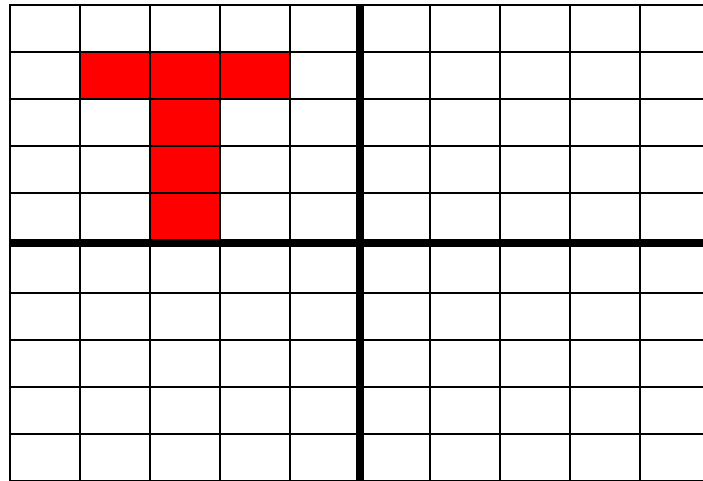
$$10 - 60 \quad \bigcirc \quad 80 - 20$$

$$20 + 30 \quad \bigcirc \quad 10 + 40$$

$$50 + 10 \quad \bigcirc \quad 40 - 30$$



۹ - چهار قسمت شکل را طوری رنگ کن که قرینه هم باشند. سپس تعداد خانه های رنگی در هر قسمت را جمع کن و پاسخ را بنویس. (با رنگ نارنجی)

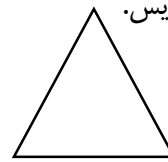



.....+.....+.....+.....=.....

۱۰- اعداد را از کمتر به بیشتر مرتب کن.

۵۱-۵۰-۶۰-۵۳-۵۶-۵۵-۵۹ - ۴۹-۵۴-۵۲-۵۷-۵۸

۱۱- نام هر شکل را بنویس.




.....

.....

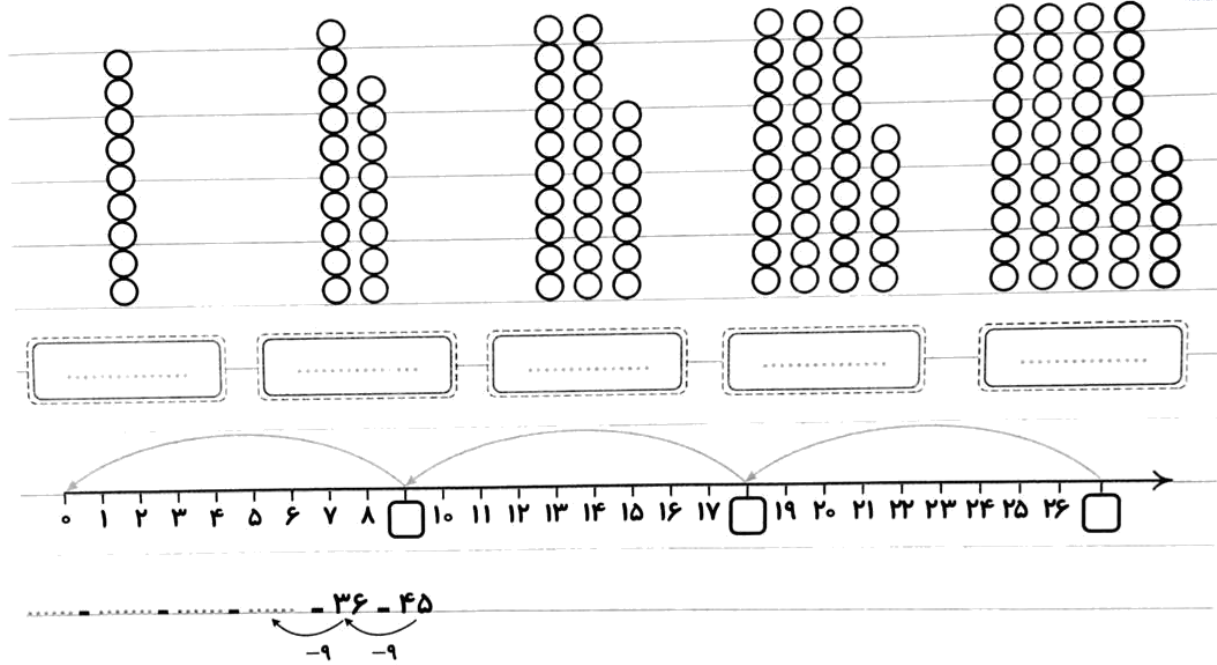
.....

.....

۱۲- یه الگوی سه تایی بکش و رنگ کن و ادامه بده با رنگ سبز.

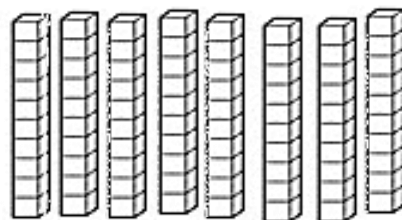



۱۳- جاهای خالی را کامل کن.



۱۴- جاهای خالی را کامل کن.

۹ بسته ی ۱۰ تایی داریم . یک بسته ی ۱۰ تایی به آن اضافه کن و بکشو



حالا چند بسته ی ده تایی داریم؟

این شکل چند بسته ی ۱۰ تایی را نشان می دهد؟

۱۵- در هر قسمت عددهای مناسب بنویس.

• از عدد ۱۰ تا ۱۰۰ را ۱۰ تا ۱۰ بنویس :

۱۰۰ ..... ۲۰ - ۱۰

• از عدد ۳۰ تا ۴۰ را یکی یکی بنویس :

۴۰ ..... ۳۰ - ۳۱

• از عدد ۵۰ تا ۱۰۰ را ۵ تا ۵ بنویس :

۱۰۰ ..... ۵۵ - ۵۰